

Türkmenistanyň Bilim ministrliği
Magtymguly adyndaky Türkmen döwlet uniwersiteti

G. Toýlyýew, A. Rahmanow, O.R. Gurbanýazowa,
A.O. Gylyçmämmedowa

Fizikadan tejribe işleri

(Mehanika we molekulýar fizika)

Ýokary okuw mekdepleriniň talyplary üçin
okuw gollanmasy

Türkmenistanyň Bilim ministrliği
tarapyndan hödürlenildi

Aşgabat -2010

“Biz bu gün ata-babalarymyzyň arzuwlan zamanasynda ýaşayarys”
Türkmenistanyň Prezidenti Gurbanguly Berdimuhamedow

Sözbaşy

Täzeden Galkynyş we Beýik özgertmeler zamanasynda dünýä ülüňlerine laýyk gelýän ylymly-bilimli ýaşlary kemala getirmek baş maksatlaryň biri edilip goýuldy. Hormatly Prezidentimiz Gurbanguly Berdimuhamedowyň başda durmagy bilen bu ugurda eýýäm birnäçe işler edildi we edilýär. Orta we ýokary okuw mekdepleriniň tehnikanyň in soňky gazananlaryna daýanýan enjamlar bilen üpjün edilmegi we bu ugurda işleriň barha giň gerim alyandygy muňa mysal bolup biler. Daşary ýurtlar bilen gatnaşyklaryň gowulanmagy, olar bilen bilim ulgamynda işleri gowulandyrmak boýunça ylalaşyklara gol çekilmegi, aspiranturalaryň, doktoranturalaryň açylmagy we şuna meňzeş başga-da birnäçe çäreler, oňa inňän möhüm döwlet ähmiýetli iş hökmünde garalýandygyny aňladýar.

Göz önünde tutulýan özgertmeler inňän giňligi we köpugurlylygy bilen tapawutlanýar. Olary durmuşa geçirmek örän köp zähmeti we aladany talap edýär. Hormatly Prezidentimiziň Türkmenistanyň hemme raýatlaryna ýüzlenip “Men siziň her biriniňiziň ata Watanymyzy gülläp ösdürmek ugrunda gujur-gaýratyňyzy gaýgymajakdygynyza ynanyaryn” diýip bellemegi, biziň her birimiziň işleýän pudaklarymyzda bu özgertmeleriň üstünlikli amala aşyrylmagy üçin zähmetimizi, ukybymyzy, gujur-gaýratymyzy aýamaly däl digimizi aňladýar. Hormatly Prezidentimiziň bu aýdanlaryna jogap edip, Magtymguly adyndaky Türkmen döwlet uniwersitetiniň fizika-matematika fakultetiniň professor-mugallymlary tarapyndan soňky ýyllarda birnäçe okuw kitaplardyr, okuw-usuly gollanmalar çap edildi. Häzirki hödürlenilýän “Fizikadan tejribe işleri (mekanika we molekulýar fizika)” atly okuw-usuly gollanmasy hem şeýle gollanmalaryň sanawyna girýär.

“Fizikadan tejribe işleri (mekanika we molekulýar fizika)” okuw-usuly gollanmasy fizikanyň mekanika we molekulýar fizika bölümlerine degişli tejribe işleriniň 20-sini öz içine alýar. Mekanika degişli tejribe işleri Polşada ýasalan esaslyk electron-mekaniki desgalarda geçirilip, olar häzirki zaman talaplaryna laýyk gelýär. Molekulýar fizika bölümüne degişli işler hem zerur takyklygy almaga mümkinçilik berýän abzallar bilen üpjün edilendir. Bar bolan gollanmalardan tapawutlylykda siziň elniňizdäki gollanmada her bir iş ýerine ýetirilende goýberilýän otnositel, absolýut hem-de ähtimal ýalňyşlyklaryň kesgitlenilişi we işçi formulalaryň getirilip çykarylşy berilýär. Tejribe işleri nazary bölümden, işiň ýerine ýetiriliş tertibinden, alnan netijeleriň derňewinden we barlag üçin soraglardan durýar. Bu gollanma ýazylan mahalynda G.Toýlyýew tarapyndan ýazylan “Fizikadan tejribe işleri”, (Aşgabat-1993ý.) usuly gollanmasy esas edilip alyndy, ondaky tejribe işleriniň hemmesi täzeden doly gözden geçirildi, formulalarda, çyzgylarda, ýazgylarda göýberlen säwlikler doly düzedildi, täze tejribe işi we goşmaça maglumatlar girizildi. Goşmaçalarda getirilýän maglumatlar tejribe işleri ýerine ýetirilende ulanylýan fiziki

hemişelikleri peýdalanmaga we alnan netijeleri dogrulygyny barlamaga mümkinçilik berýär.

Bu işler esasan matematika, himiýa, biologiýa, geografiýa, ekologiýa, meteorologiýa, kartografiýa hünärleri boýunça kämilleşýän talyplar üçin niýetlenendir. Ondan fizikany öwrenýän islendik ugurdaky talyplar, orta mekdep mugallymlary we fizikany özbaşdak öwrenýänler-de peýdalanyp bilerler.

Gollanma ýokarda ady agzalan hünärler üçin okuw maksatnamalaryna doly laýyk gelýär we olar boýunça okalýan umumy okuwlarda beýan edilýän nazary maglumatlaryň tejribeler arkaly berkidilmegine, okuw materiallarynyň düýpli özleşdirilmegine ýardam eder diýen tamamyz bar.

1 - n j i T E J R I B E İ Ş İ

Dogry geometrik formalı gaty jisimleriniň dykzlygyny kesgitlemek

Işin maksady: ştangensirkul, mikrometr, terezi ýaly abzallary ulanyp jisimleriniň dykzlygyny kesgitlemegi öwrenmek.

Abzallar: dykzlygy kesgitlenilýän dürli görnüşli (şar, parallelepiped we silindr) jisimler; ştangensirkul, mikrometr, terezi, çekuw daşlary.

Gysgaça maglumatlar

Jisimiň göwrüm birligine düşýän massasyna onuň dykzlygy diýilýär, ýagny:

$$\rho = \frac{m}{V}; \quad (1)$$

bu ýerde ρ - jisimiň dykzlygy, $\frac{kg}{m^3}$; m - massasy, kg; V - göwrümi, m^3

Şeýlelikde, jisimiň dykzlygyny kesgitlemek onuň massasyny (m) we göwrümünü (V) kesgitlemeklige syrykdyrylýar.

Işin ýerine ýetirilişi

Tejribe işi şu aşakdaky tertipde ýerine ýetirilýär:

1. Terezini sazlamaly.

2. Berlen jisimleriniň massalaryny terezide ölçemeli. Ölçegleri 3-5 gezek geçirmeli.

Netijäni aşakdaky yzygiderlilikde ýazmaly:

$$m = m_{or} \pm \Delta m_{\text{äh}} \quad (2)$$

bu ýerde:

$$m_{or} = \frac{m_1 + m_2 + m_3 + \dots + m_n}{n} \quad (3)$$

jisimiň massasynyň ortaça bahasy;

$$\Delta m_{\text{äh}} = \pm 0,67 \sqrt{\frac{\sum_{i=1}^n |\Delta m_i|^2}{n(n-1)}} \quad (4)$$

ölçegleriň netijesiniň in ähtimal ýalňyşlygy. Bu formulada:

$$\sum_{i=1}^n |\Delta m_i| = |(m_{or} - m_1)| + |(m_{or} - m_2)| + \dots + |(m_{or} - m_n)|; \quad (5)$$

görnüşde kesgitlenýär; n - ölçegleriň sany.

3. Jisimlerin göwrümlerini hasaplamaly.

a) *Şaryň göwrümi*

$$V_{\text{ş}} = \frac{4}{3} \pi R^3, \quad (6)$$

formula bilen kesgitlenýär. Bu ýerde R -şaryň radiusy. Şaryň radiusyny ştangensirkul (1-nji surat) ýa-da mikrometr bilen ölçemeli. Soňra (2)-nji, (3)-nji we (4)-nji formulalary ulanyp, şaryň radiusyny şu aşakdaky görnüşde ýazmaly:

$$R = R_{or} \pm \Delta R_{\text{äh}} \quad (7)$$

Şuňa laýyklykda şaryň göwrümini

$$V_s = V_{s,or} \pm \Delta V_{s,\ddot{a}h} \quad (8)$$

formula bilen hasaplamak bolar. Bu formula girýän $V_{s,or}$

$$V_{s,or} = \frac{4}{3} \pi R_{or}^3 \quad (9)$$

görnüşde hasaplanyp biliner. Onda şaryň göwrümi hasaplananda goýberilýän in ähtimal ýalňyşlyk

$$\Delta V_{s,\ddot{a}h} = V_{s,or} \left(\frac{\Delta \pi}{\pi} + 3 \frac{\Delta R_{\ddot{a}}}{R_{or}} \right) \quad (10)$$

Eger $\pi = 3,14$ bolsa, onda $\frac{\Delta \pi}{\pi} = 0,0005$ -e deň bolar.

b) Silindriň göwrümi.

$$V_s = \pi \cdot r^2 \cdot h \quad (11)$$

Bu ýerde r - silindriň esasynyň radiusy, h - onuň beýikligi.

Onda ýokarda getirilen zygyderlikde:

$$r = r_{or} \pm \Delta r_{\ddot{a}h} \quad (12)$$

$$h = h_{or} \pm \Delta h_{\ddot{a}h} \quad (13)$$

$$V_s = V_{or} \pm \Delta V_{s,\ddot{a}h} \quad (14)$$

$$\Delta V_{s,\ddot{a}h} = V_{s,or} \left(\frac{\Delta \pi}{\pi} + 2 \frac{\Delta r_{\ddot{a}}}{r} + \frac{\Delta h_{\ddot{a}}}{h_{or}} \right) \quad (15)$$

$$V_{s,or} = \pi r_{or}^2 \cdot h_{or} \quad (16)$$

ç) Parallelepipedin göwrümi.

$$V_p = a \cdot b \cdot c \quad (17)$$

bu ýerde

$$a = a_{or} \pm \Delta a_{\ddot{a}h} \quad (18)$$

esasynyň boýy,

$$b = b_{or} \pm \Delta b_{\ddot{a}h} \quad (19)$$

ini ,

$$c = c_{or} \pm \Delta c_{\ddot{a}h} \quad (20)$$

beýikligi, onda

$$V_p = V_{or} \pm \Delta V_{p,\ddot{a}h} \quad (21)$$

bu ýerde

$$V_{or} = a_{or} \cdot b_{or} \cdot c_{or} \quad (22)$$

$$\Delta V_{p,\ddot{a}h} = \frac{\Delta a_{\ddot{a}h}}{a_{or}} + \frac{\Delta b_{\ddot{a}h}}{b_{or}} + \frac{\Delta c_{\ddot{a}h}}{c_{or}} \quad (23)$$

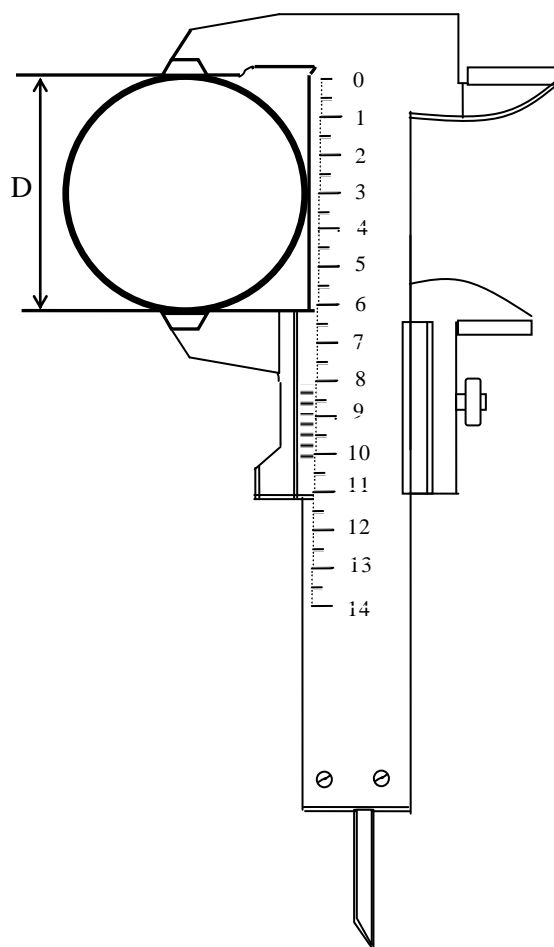
4. Jisimleriň dykzlygyny hasaplamaly we dykzlygy

$$\rho = \rho_{or} \pm \Delta \rho_{\ddot{a}h} \quad (24)$$

görnüşde ýazmaly. Bu ýerde

$$\rho_{or} = \frac{m_{or}}{V_{or}} \quad (25)$$

$$\Delta \rho_{p,\ddot{a}h} = \frac{\Delta m_{\ddot{a}h}}{m_{or}} + \frac{\Delta V_{\ddot{a}h}}{V_{or}} \quad (26)$$



1- nji çyzgy. Ştangensirkulda ölçeg geçirilişi

Barlag üçin soraglar

1. Jisimleriň massasy bilen agramynyň näme tapawudy bar?
2. Dykzlyk näme? Ol temperatura baglymy?
3. Terezileriň nähili görnüşi bar?
4. Ştangensirkul bilen nähili ölçegler geçirip bolýar?
5. Nädogry formalý jisimleriň dykzlygy nähili kesgitlenýär?

2 - n j i T E J R I B E I Ş I

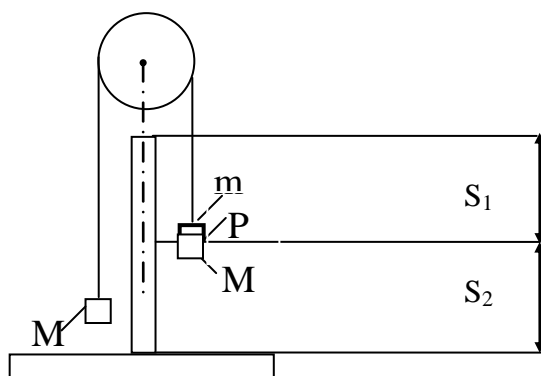
Atwudyň abzalynda erkin gaçmanyň tizlenmesini kesgitlemek

Işň maksady: göniçyzykly deňölçegli we deňtizlenýän hereket kanunlary esasynda erkin gaçmanyň tizlenmesini kesgitlemek.

Abzallar: ýörite ýasalan FPM-02 belgili abzal.

Gysgaça maglumatlar

Atwudyň abzalynda gozganmaýan blokdan aşyrylan ýüplügiň uçlarynda massalary M -e deň bolan iki sany birdeň silindr bar (1,2-nji çyzgylar). Ulgam ilki deňölçegli tizlenýän hereketiň başlangyjynda durýar.



1-nji çyzgy. Atwudyň abzaly

S_1 – deňölçegli tizlenýän hereketde geçilen ýol;

S_2 – deňölçegli hereketde geçilen ýol.

Eger sagdaky silindriň üstüne m massaly halkajygy goýsak, onda $(2M+m)$ massaly ulgam (iki sany silindr we halka) $F=m \cdot g$ güýjüň täsiri astynda a tizlenme bilen herekete geler, onda,

$$mg = (2M+m) \cdot a \quad (1)$$

formuladan

$$a = \frac{m}{2M+m} \cdot g \quad (2)$$

aňlatmany alarys.

Goşmaca ýük (P) halka ýetende aýrylýar we ulgam indi göniçyzykly deňölçegli hereket eder. Ulgamyň “ S_1 ” ýolda deňtizlenen hereket edeni üçin bu ýolyň ahyrynda tizlik şeýle tapylar:

$$v = \sqrt{2aS_1} = \sqrt{2 \frac{m}{2M+m} g S_1} \quad (3)$$

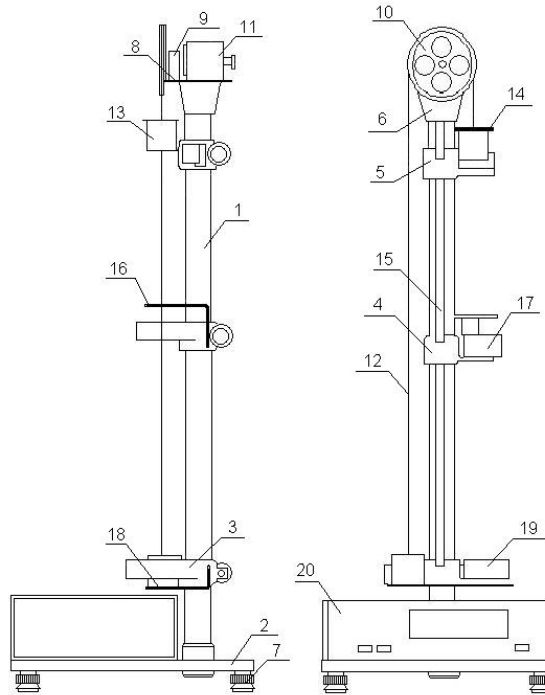
Silindr şu tizlik bilen deňölçegli hereket edip S_2 ýoly t wagtda geçer, onda:

$$S_2 = v \cdot t = \sqrt{\frac{2mgS_1}{2M + m}} \cdot t \quad (4)$$

4-nji aňlatmanyň iki tarapyňy-da kwadrata göterip, ony g-e görä çözssek,

$$g = \frac{2M + m}{m} \cdot \frac{S_2^2}{2S_1 \cdot t^2} \quad (5)$$

görnüşdäki işçi formulany alarys. Bu ýerde t - S_2 ýoly geçmäge sarp edilen wagt.



2-nji çyzgy. FPM-02 belgili abzalyň umumy görnüşi. 1- sütün, 2-abzalyň esasy, 3-aşaky süýşmeýän kronşteýn, 4,5-degişlilikde ortaky we ýokarky süýşýän kronşteýnler, 6 - wtulka, 7 - aýajyklar, 8 - ýokarky disk, 9 -silindrleri elektromagnit arkaly saklaýjy , 10 - gozganmaýan blok, 11-elektromagnit, 12 - sapak, 13 - silindr, 14 - goşmaça ýük, 15-millimterli şkala,16- goşmaça ýüki aýyrýan halka, 17 - fotoelektrik görkeziji, 18-üstüne rezin düşelen tegelek plastinka, 19-aşaky fotoelektrik görkeziji, 20 - millisekuntölçeýji.

Işin ýerine ýetirilişi

1. Abzalyň işleýänligini barlap görüň.
2. Sag silindriň üstüne goşmaça ýükleriň birini goýuň (massasyny belläň).
3. Silindriň aşaky granyny kronşteýndäki çyzyk bilen gabatlaň.
4. Şkala boýunça deňölçegli tizlenýän we deňölçegli hereketleriň S_1 we S_2 ýollaryny ölçäň.
5. “Pusk” (“işe giriş”) klawişini basyň.
6. S_2 ýoly geçmäge sarp edilen wagty (t -ni) abzaldan göçürüp alyň.
7. Ölçeğleri 3-5 gaýta geçiriň we

$$t_{or} = \frac{1}{n} \cdot \sum_{i=1}^n t_i \quad (6)$$

formula boýunça ortaça wagty tapyň. Bu ýerde n-ölçegleriň sany; t_i - i-nji ölçegiň wagty

8. 5-nji formula boýunça erkin gaçmanyň tizlenmesini hasaplaň.

9. Ölçegleriň otnositel (göräli) ýalňyşlygyny tapyň.

$$\delta = \frac{|g - g_h|}{g_h} \cdot 100\% \quad (7)$$

Bu ýerde g - şu tejribede tapylan erkin gaçmanyň tizlenmesi;

g_h - erkin gaçmanyň tizlenmesiniň kabul edilen hakyky bahasy (ony

$g_h = 9,81 \text{ m/s}^2$ diýip kabul ediň).

Barlag üçin soraglar

1. Tizlenme, tizlik, geçilen ýol, orun üýtgetme barada näme bilýärsiňiz?
2. Nähili herekete göniçyzykly, deňölçegli hereket diýilýär?
3. Deňtizlenýän hereket näme?
4. Erkin gaçma näme?
5. Erkin gaçmanyň (agyrlyk güýjüniň) tizlenmesi näme?
6. Agyrlyk güýjüniň tizlenmesiniň bahasy Ýeriň dürli giňişliklerinde birmeňzeşmi?
7. Işçi formulany getirip çykaryň we ony düşündiriň?
8. Işi ýerine ýetirişni aýdyp beriň?

3 - n j i T E J R I B E I Ş I

Ýapgyt maýatnikiň kömegi bilen togarlanma sürtülme koeffisiýentini kesgitlemek

Işiň maksady: togarlanma sürtülme koeffisiýentini kesgitlemek.

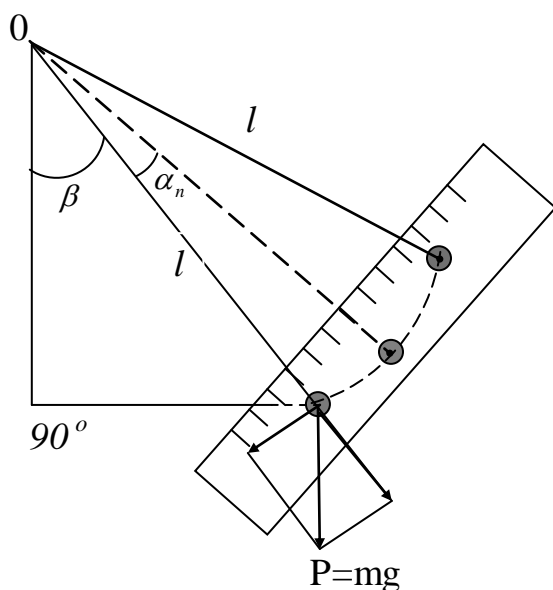
Abzallar: ýörite ýasalan FPM-07 belgili ýapgyt maýatnik.

Gysgaça maglumatlar

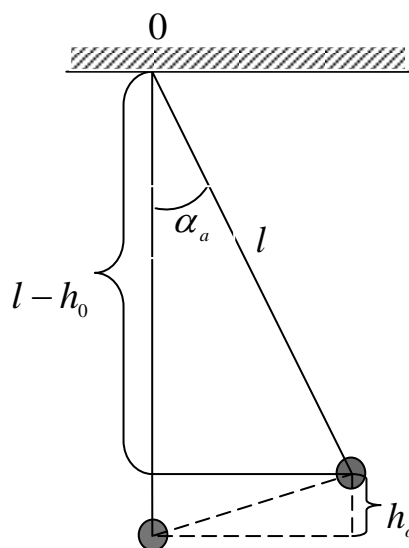
Goý, maýatnik α_0 burça gysardylan bolsun (1-nji çyzga seret), onda ol käbir h_0 beýiklige galar. Onda, çyzgydan alarys: (2-nji çyzgy)

$$\ell - h_0 = \ell \cos \alpha_0; \quad (1)$$

$$h_0 = \ell - \ell \cos \alpha_0 = \ell(1 - \cos \alpha_0) = 2\ell \sin^2 \frac{\alpha_0}{2} \quad (2)$$



1-nji çyzgy. Ýapgyt maýatnigiň shematik görnüşi.



2-nji çyzgy. h_o -yň kesgitlenişine düşündirme

Onuň potensial energiýasy: $E_{p.o} = mgh_o = 2mg\ell \sin^2 \frac{\alpha_o}{2}$ (3)

n yrgyldydan soň sürtülme güýjüniň garşysyna iş edilip, maýatnigiň yrgyldysynyň amplitudasy ep-esli kiçeler, ýagny ol indi $\alpha_n < \alpha_o$ burça gyşarar. Indi şarjagazyň merkezi h_n beýiklige galar, ýagny.

$$h_n = 2\ell \sin^2 \frac{\alpha_n}{2} \quad (4)$$

Onuň potensial energiýasy

$$E_{p.n} = 2mg\ell \sin^2 \frac{\alpha_n}{2}; \quad (5)$$

n yrgyldydan soň potensial energiýanyň üýtgemesi

$$\Delta E_p = E_{p.o} - E_{p.n} = 2mg\ell \left(\sin^2 \frac{\alpha_o}{2} - \sin^2 \frac{\alpha_n}{2} \right) \quad (6)$$

bolar.

Togaranmada döreyän sürtülme güýji:

$$F_s = f \frac{N}{R} \quad (7)$$

Bu ýerde: f - togaranma sürtülme koeffisiýenti; N - normal basyş güýji;
 R - şaryň radiusy.

Çyzgydan görnüşi ýaly

$$N \approx mg \operatorname{ctg} \beta, \quad (8)$$

bu ýerde β - maýatnigiň gapdal şkalasy boýunça alnan ýapgytlyk burçy.

Şaryň amplitudasy wagtyň geçmegi bilen kiçelýär, ýagny

başda: $x_o = \ell \sin \alpha_o \quad (9)$

soň: $x_n = \ell \sin \alpha_n \quad (10)$

Burç kiçi bolanda $\sin \alpha_o \approx \alpha_o$, $\sin \alpha_n \approx \alpha_n$,
 onda: $x_o \approx \ell \cdot \alpha_o$, $x_n \approx \ell \cdot \alpha_n$
 ortaça gyşarma

$$x_{or} = \frac{x_o + x_n}{2} \approx \ell \frac{\alpha_o + \alpha_n}{2} \quad (11)$$

$$n \text{ yrgyldynyň dowamynda geçilen ýol} \quad S \approx 4n \cdot x_{or} \quad (12)$$

Onda edilen iş

$$A = F_s \cdot 4n x_{or} = f \frac{mg \operatorname{ctg} \beta}{R} \cdot 4n \cdot \ell \frac{\alpha_o + \alpha_n}{2} \quad (13)$$

Energiýanyň öwrülme we saklanma kanuny boýunça (6)-njy we (13)-nji deňlemeleri
 özara deňläp ,alarys:

$$2mg \cdot \ell \left(\sin^2 \frac{\alpha_o}{2} - \sin^2 \frac{\alpha_n}{2} \right) = f \frac{mg \cdot \operatorname{ctg} \beta}{R} \cdot 4n \ell \frac{\alpha_o + \alpha_n}{2} \quad (14)$$

$$\sin^2 \frac{\alpha_o}{2} - \sin^2 \frac{\alpha_n}{2} = f \frac{\operatorname{ctg} \beta}{R} n \left(\frac{\alpha_o + \alpha_n}{2} \right)$$

$$\sin^2 \frac{\alpha_o}{2} \approx \left(\sin \frac{\alpha_o}{2} \right)^2 \approx \left(\frac{\alpha_o}{2} \right)^2 = \frac{\alpha_o^2}{4}; \quad \sin^2 \frac{\alpha_n}{2} = \frac{\alpha_n^2}{4}$$

bolany üçin soňky deňlemeden:

$$f = R \cdot \operatorname{tg} \beta \cdot \frac{(\alpha_o - \alpha_n)}{4n} \quad (15)$$

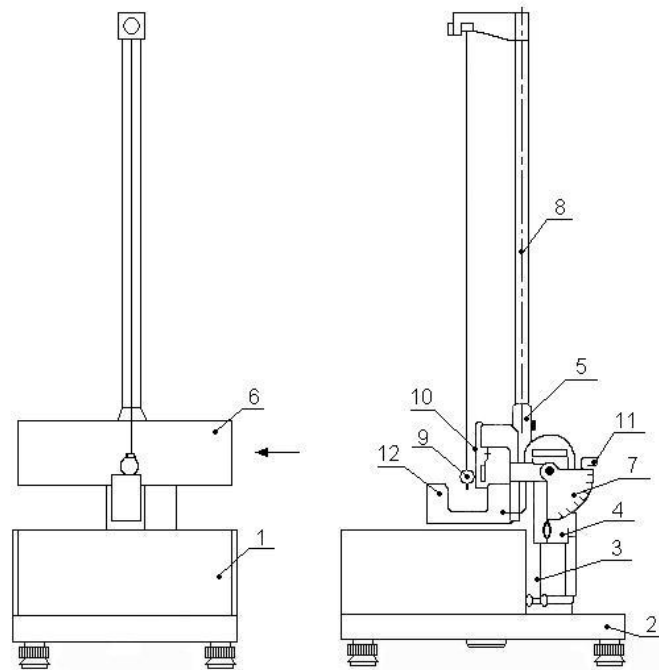
Işin ýerine ýetirilişi

1. Şaryň radiusyny ştangensirkul bilen ölçemeli.
2. Abazalyň ýapgyt egnini $\beta=30^\circ$ burça gyşardyň (3-nji çyzga seret).
3. Şary deňagramlylyk ýagdaýyndan $\alpha_o=5^\circ$ burça gyşardyň.
4. Şaryň $n=10$ doly yrgyldysyndan soň α_n burçy belläň.
5. (15) –nji formula boýunça togarlanma sürtülme koeffisientini hasaplaň.
6. Ölçegleri 40° we 60° burçlarda gaýtalap, sürtülme koeffisiýentiniň degişli bahalaryny kesgitläň.
7. Ölçegleriň ýalňyşlygyny hasaplaň.
8. Togarlanma sürtülme koeffisiýentiniň ýalňyşlygy δ şeýle hasaplanýar:

$$\delta = \frac{f - f_{or}}{f_{or}} \cdot 100\% \quad (16)$$

bu ýerde: f - togarlanma sürtülme koeffisiýenti; f_{or} – n gezek ölçegde tapylan togarlanma sürtülme koeffisiýentiniň ortaça bahasy, ýagny ol şeýle formula bilen kesgitlenýär:

$$f_{or} = \frac{\sum_{i=1}^n |f_i|}{n} \quad (17)$$



3-nji çyzgy. FPM-07 belgili ýapgyt maýatnigiň umumy görnüşi.

1-ölçeýji blok, 2 - abzalyň esasy, 3 - turbajyk, 4 - korpus,
 5 - kronşteýn, 6,7 - burç ölçeýji şkalalar, 8 - sütün, 9 - şarjagaz,
 10 - tekiz plastina, 11 - maýatnigiň dürli ýapgytlygyny almak üçin
 aýlaýjy, 12 – fotoelektrik görkeziji.

Barlag üçin soraglar

1. Sürtilme güýji näme we onuň ýüze çykmagynyň sebäbini düşündiriň?
2. Typma we togarlanma sürtilme güýçleriniň ululyklary haýsy formulalar bilen tapylýar?
3. Işçi formulany getirip çykaryň we düşündiriň.
4. Işi nähili ýerine ýetirdiňiz?
5. Mehaniki iş, potensial energiýa, energiýanyň öwrülme we saklanma kanuny barada aýdyň.

4 - n j i T E J R I B E I Ş I

Hereket mukdarynyň saklanma kanunyny barlamak

Işiň maksady: hereket mukdarynyň saklanma kanunyny barlamak.

Abzallar: FPM-08 belgili ýörite ýasalan abzal, polat we plastelin şarlary.

Gyzgaça maglumatlar

Jisimiň massasynyň (m), onuň hereket tizligine (v) köpeltmek hasylyna hereket mukdary (\vec{p}) diýilýär.

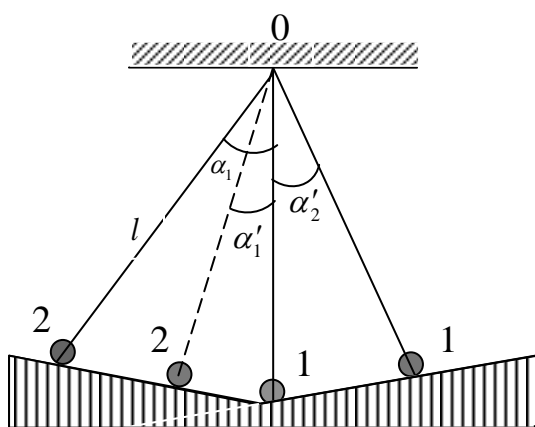
$$\vec{p} = m \cdot \vec{v} \quad (1)$$

Hereket mukdary wektor ululykdyr.

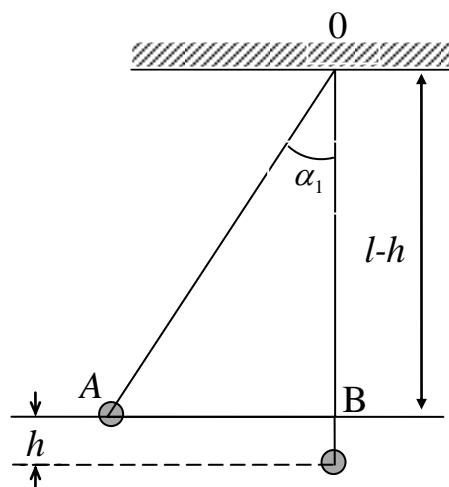
Izolirlenen ulgamyň hereket mukdary üýtgemeyär, ýagny:

$$\vec{p} = \text{hemişelik} \quad (2)$$

Işiň mazmuny iki şaryň özara çaknyşmasyndan öňki we soňky hereket mukdarlaryny tapmaktan we olary deňeşdirmek arkaly hereket mukdarynyň üýtgemeyändigini tejribede barlamakdan ybarat. Şarlar ℓ uzynlykly ýüplüklerden asylan. Şarlaryň biri ilki dynçlykda durýar we onuň hereket mukdary nola deň. Ikinji şar ℓ uzynlykly ýüplükden asylyp, deňagramlylyk ýagdaýyndan käbir α_1 burça gyşardylyp göýberilýär (1-nji çyzga seret).



1-nji çyzgy. FPM-08 abzalyň shematik görnüşi.



2-nji çyzgy. h-ýň kesgitlenişine düşündirme

Urgynyň öň ýanynda şarlaryň hereket mukdarynyň jemi

$$\vec{p}_o = m_2 \vec{v}_2; \quad (3)$$

bu ýerde: m_2 – urýan şaryň massasy; v_2 – urýan şaryň urgynyň öň ýanyndaky tizligi.

Urýan şaryň (2-nji şar) tizligi energiýanyň saklanma kanunynyň esasynda tapylýar. α_1 burça gyşardylan şar h beýiklige göterilýär (2-nji çyzgy). Onda ΔOAB -den

$$\ell - h = \ell \cos \alpha_1$$

ýa-da

$$h = \ell - \ell \cos \alpha_1 = \ell(1 - \cos \alpha_1);$$

$$1 - \cos \alpha = 2 \sin^2 \frac{\alpha}{2}; \text{ şonuň üçin } h = 2\ell \sin^2 \frac{\alpha_1}{2} \quad (4)$$

Şaryň A nokatdaky mgh potensial energiýasy B nokatda $\left(\frac{mv_2^2}{2}\right)$ kinetik energiýa öwrülýär, onda:

$$mgh = \frac{mv_2^2}{2}; \text{ bu ýerden } v_2^2 = 2gh \quad (5)$$

(4)-nji we (5)-nji deňlemelerden $v_2^2 = 2g \cdot 2\ell \sin^2 \frac{\alpha_1}{2} = 4g\ell \sin^2 \frac{\alpha_1}{2}$ deňlemäni alarys. Bu ýerden

$$v_2 = 2\sqrt{g\ell} \sin \frac{\alpha}{2} \quad (6)$$

deňleme alynýar.

Bu deňlemäni göz önünde tutup, 3-nji deňlemäni şu aşakdaky görnüşde ýazyp bileris:

$$P_0 = 2m_2 \sqrt{g\ell} \sin \frac{\alpha_1}{2} \quad (7)$$

Urgudan soň (eger urgy absolýut maýyşgak bolsa) şarlaryň hereketler mukdarynyň jemi:

$$P_0' = m_1 v_1' + m_2 v_2' \quad (8)$$

deňleme bilen kesgitlener.

bu ýerde: m_1 – urulýan şaryň massasy; v_1' – urulýan şaryň urgudan soňky tizligi; v_2' – urulýan şaryň urgudan soňky tizligi; v_1' we v_2' tizlikler (6) –njy deňlemeden peýdalanylyp kesgitlenip biliner:

$$v_1' = 2\sqrt{g\ell} \sin \frac{\alpha_1'}{2} \quad (9) \quad v_2' = 2\sqrt{g\ell} \sin \frac{\alpha_2'}{2} \quad (10)$$

Şarlaryň massalary özara deň, şonuň üçin $m_2 v_2 = m_1 v_1' + m_2 v_2'$ deňligiň ýerine $v_2 = v_1' + v_2'$ deňligi barlamak ýeterlikdir ýa-da

$$\sin \frac{\alpha_1}{2} = \sin \frac{\alpha_1'}{2} + \sin \frac{\alpha_2'}{2} \quad (11)$$

deňligiň kanagatlandyrylýandygyny barlamaly.

Absolýut maýyşgak däl urgudan (plastelin şarlarynyň urgusy) soň şarlaryň hereket mukdarynyň jemi:

$$P_0'' = (m_1 + m_2) \cdot v_2'' \quad (12)$$

$$\text{bu ýerde: } v_2'' = 2\sqrt{g\ell} \sin \frac{\alpha_2''}{2} \quad (13)$$

α_2'' – urgudan soň iki şaryň bilelikde gyşarma burçy.

$$\text{Onda: } \sin \frac{\alpha_1}{2} = 2 \sin \frac{\alpha_2''}{2} \quad (14)$$

deňdigi barlamaly bolýar.

Işñ ýerine ýetirilişi

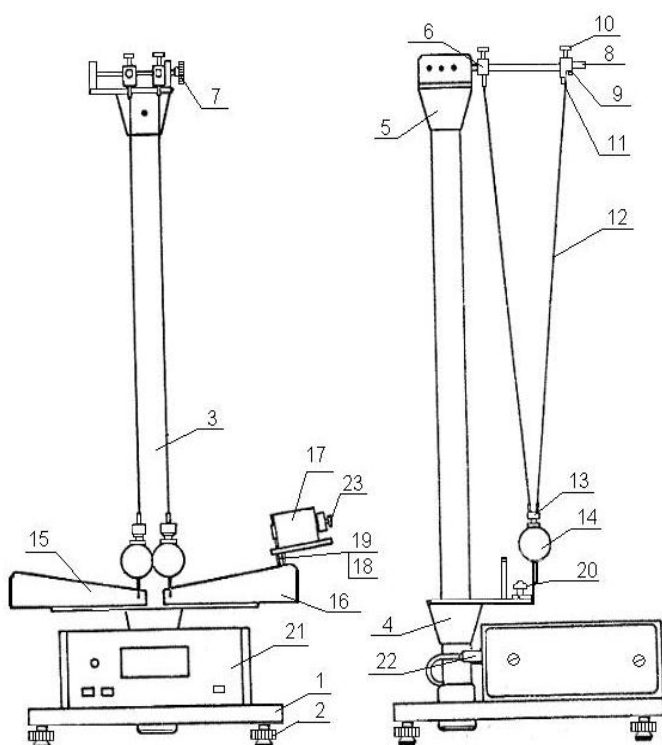
1. Abzaly işçi ýagdaýa getirmeli (3-nji çyzgy).
2. Sag şary gyşardyp, elektromagnite tutdurmaly. Çünki şar dynçlykda durmaly.
3. α_1 burçy ölçmeli.
4. Sag şary goýbermeli.
5. Urgydan soň şarlaryň gyşarma α_1' we α_2' burçlaryny bellemeli ýa-da α_2'' burçy bellemeli.
6. Bu ölçegleri 5-10 gezek gaýtalamaly we aşakdaky formulalar boýunça burçlaryň

orta bahalaryny hasaplamaly:
$$\alpha_1' = \frac{1}{n} \cdot \sum_{i=1}^n \alpha_{1i}' \quad (15)$$

$$\alpha_2' = \frac{1}{n} \cdot \sum_{i=1}^n \alpha_{2i}' \quad (16)$$

$$\alpha_2'' = \frac{1}{n} \cdot \sum_{i=1}^n \alpha_{2i}'' \quad (17)$$

bu ýerde : n – ölçegleriň sany.



3-nji çyzgy. FRM-08 belgili abzalyň umumy görnüşi.

1-abzalyň esasy, 2-ayajyklar, 3 - sütün, 4,5 - degişlilikde aşaky we ýokarky kronşteýnler, 6- steržen, 7 – towlanýan nurbat, 8 - saklaýjy, 9 - wtulka, 10-bolt, 11-ýokarky asma, 12-sim, 13-aşaky asma, 14-şar, 15, 16 - şkalaly burçluklar, 17 - elektromagnit, 18, 19 - boltlar, 20 - towlanýan nurbat, 21 - mikrosekuntölçeýji, 22 - naprýaženiýä birleşdiriji, 23- elektromagnidi berkidiji.

7. (11)-nji we (14) –nji deňlemeleri barlamaly.

$$8. \quad \delta = \frac{|P_0 - P'_0|}{P_0} \cdot 100\% \quad \text{we} \quad \delta = \frac{|P_0 - P''_0|}{P_0} \cdot 100\% \quad (18)$$

deňlemeler boýunça hereket mukdarynyň saklanma kanunynyň işçi ýalňyşlygyny ölçemeli.

Barlag üçin soraglar

1. Hereket mukdary näme?
2. Hereket mukdarynyň saklanma kanuny nähili aýdylyar?
3. İşçi deňlemelerini getirip çykaryň we düşündirin.
4. Absolyut maýyşgak we maýyşgak däl urgulary häsiýetlendirin.
5. İşin ýerine ýetirilişini aýdyp beriň.

5 - n j i T E J R I B E I Ş I

Matematiki we öwrülme maýatnikleriň kömegi bilen agyrylyk güýjüniň tizlenmesini kesgitlemek

Işin maksady: matematiki we öwrülme maýatnikleriň yrgyldy kanunlaryny öwrenmek we agyrylyk güýjüniň tizlenmesini kesgitlemek.

Abazallar: FPM-04 belgili uniwersal maýatnik.

Gysgaça maglumatlar

Uzyn, süýnmeýän, agramsyz sapakdan asylan, ähli massasy agyrylyk merkezinde jemlenen şardan durýan we agyrylyk güýjüniň täsirinde deňagramlyk ýagdaýynyň töwereginde yrgyldyly hereket edip bilýän ulgama **matematiki maýatnik** diýilýär. Onuň yrgyldysy kiçi gyşarma burçlarynda ($\alpha < 5^\circ$) garmoniki yrgyldydyr we süýşmesi

$$x = A \sin(\omega t + \varphi) \quad (1)$$

kanuna boýun egýär. Hereketiň tizlenmesi

$$\begin{aligned} a &= \frac{d^2x}{dt^2} = \frac{d}{dt} \left(\frac{dx}{dt} \right) \\ \frac{dx}{dt} &= A\omega \cdot \cos(\omega t + \varphi) \\ \frac{d^2x}{dt^2} &= -A\omega^2 \sin(\omega t + \varphi) = -\omega^2 x \\ a &= -\omega^2 x \end{aligned} \quad (2)$$

Maýatnik deňagramlylyk ýagdaýyndan käbir α burça gyşardylanda, oňa

$$P_2 = -m \cdot g \cdot \sin \alpha = -mg \frac{x}{\ell} \quad (3)$$

deň bolan gaýtaryjy (kwazimaýyşgak) güýç täsir edýär (1-nji çyzga seret).

Nýutonyň ikinji kanuny boýunça:

$$P_2 = ma \quad (4)$$

(3)-nji we (4)-nji deňlemeleri özara deňeşdirip alarys:

$$ma = -mg \frac{x}{\ell} \quad \text{ýa-da} \quad a = -g \frac{x}{\ell} \quad (5)$$

(2)-nji bilen (5)-nji deňlemeleri özara deňläp,

$$-\omega^2 x = -g \frac{x}{\ell}$$

aňlatmany alarys. Bu ýerde:

$$\omega^2 = \frac{g}{\ell}, \quad \text{emma} \quad \omega = \frac{2\pi}{T_m} \text{ -e}$$

deň bolýandygyny göz önünde tutup

$$\frac{4\pi^2}{T_m^2} = \frac{g}{\ell} \quad \text{ýa-da} \quad T_m = 2\pi \sqrt{\frac{\ell}{g}} \quad \text{deňlemäni alarys.}$$

Bu ýerden

$$g = \frac{4\pi^2 \cdot \ell}{T_m^2} \quad (6)$$

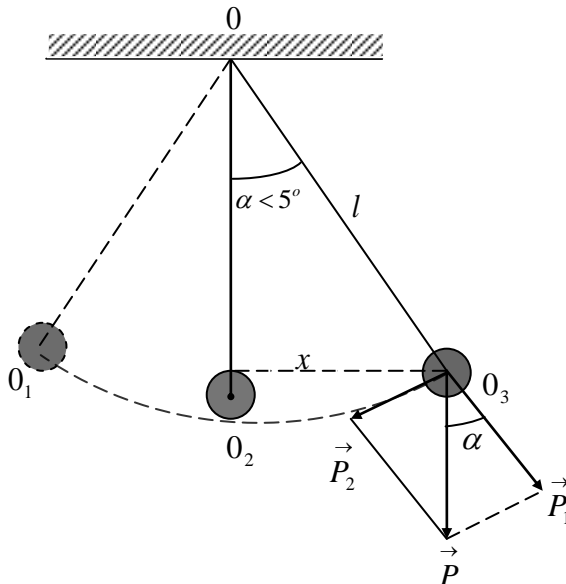
bolýandygy görünýär.

Alnan formulada : g -agyrlyk güýjüniň tizlenmesi, m/s^2 ; ℓ - matematiki maýatnigiň uzynlygy, m ; T_m – matematiki maýatnigiň yrgyldy peridy, s .

$$T_m = \frac{t}{n} \quad (7)$$

bu ýerde: n – doly yrgyldylaryň sany, t – yrgyldynyň dowamlylygy, sek .

Agrylyk güýjüniň täsirinde agrylyk merkezinden geçmeýän asma nokadynyň (gorizontal okuň) töwereginde yrgyldyly hereket edip bilýän islendik makroskopik jisime **fiziki maýatnik** diýilýär. Peridy fiziki maýatnigiňkä deň bolan matematiki maýatnigiň uzynlygyna fiziki maýatnigiň **getirilen uzynlygy** diýilýär. Asma O nokadyndan getirilen uzynlykça daşda ýerleşen A nokada **yrgyldy merkezi** diýilýär (2-nji çyzgy).



1-nji çyzgy.
Matematiki maýatnik

Eger fiziki maýatnik O we A nokatlaryň töwereginde yrgyldadylsa, olaryň periodlary deň bolsalar, onda fiziki maýatnige **öwrülme** maýatnigi diýilýär.

Maýatnige täsir edýän P_2 gaýtaryjy güýjüň momenti (2-nji çyzgy)

$$M = m \cdot g \cdot \sin \varphi \cdot a \quad (8)$$

Bu ýerde: a - fiziki maýatnigiň C agyrlık merkezinden

O asma nokadyna çenli aralyk.

Aýlanýan gaty jisimiň dinamikasy boýunça:

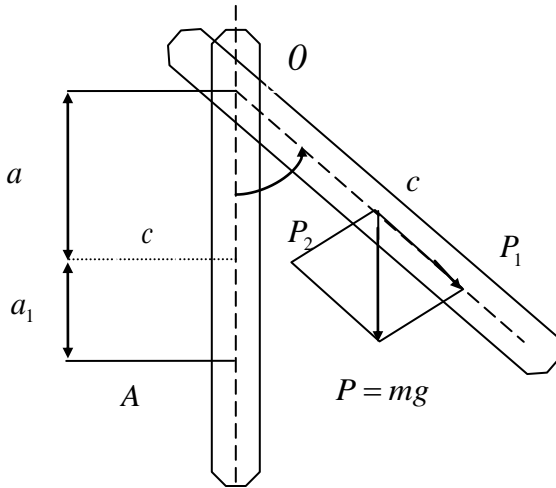
$$M = I \cdot \varepsilon_f \quad (9)$$

bu ýerde: M – güýjüň momenti;
 I – inersiýa momenti; ε_f - burç tizlenmesi.

(8)-nji we (9)-njy formulalary özara deňeşdirip alarys: $m \cdot g \cdot \sin \varphi \cdot a = I \cdot \varepsilon_f$,

$$\varepsilon_f = \frac{mg \sin \varphi \cdot a}{I} \quad (10)$$

Eger uzynlygy $\ell = a$ bolan maýatnige garasak, onda



2-nji çyzgy. Fiziki maýatnik

$$I = m \cdot \ell^2 \quad \text{we}$$

$$\varepsilon_m = \frac{mg \sin \varphi \cdot \ell}{m \ell^2} = \frac{g \sin \varphi}{\ell} \quad (11)$$

$T_f = T_m$ bolsa, $\varepsilon_f = \varepsilon_m$, onda (10)-njy we (11)-nji deňlemeleri deňläp, alarys:

$$\frac{mg \sin \varphi \cdot a}{I} = \frac{g \sin \varphi}{\ell_g} \quad \text{we} \quad \ell = \ell_g \quad \text{bolandygyny göz önünde tutup,}$$

$$\ell_g = \frac{I}{ma} \quad (12)$$

deňlemäni alarys. Bu ýerde: ℓ_g – fiziki maýatnigiň getirilen uzynlygy. (12)-nji deňlemäni ulanyp, matematiki maýatnigiň periodyny kesgitlemek üçin ýokarda

getirilen $T_m = 2\pi \sqrt{\frac{\ell}{g}}$ formulany peýdalanylýar:

$$T_f = 2\pi \sqrt{\frac{I}{m \cdot g \cdot a}} \quad (13)$$

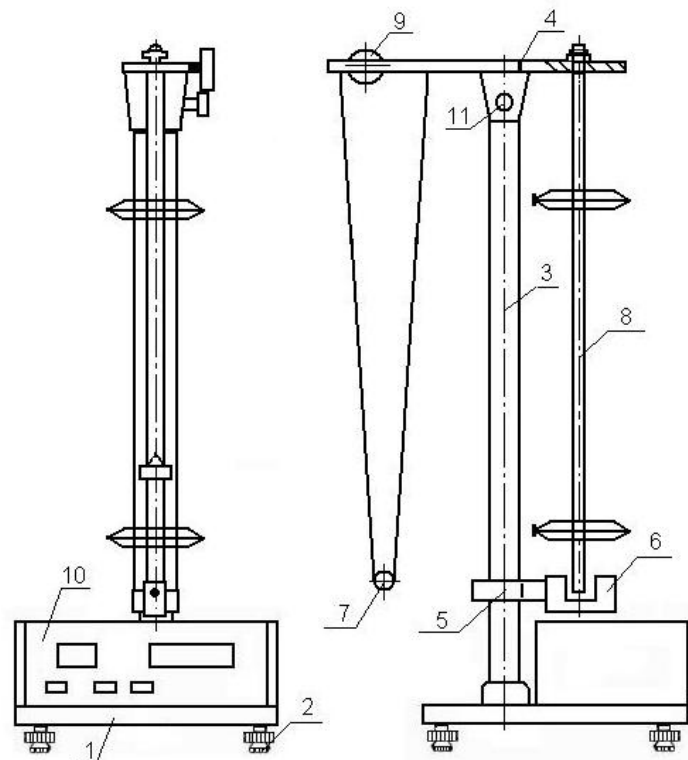
görnüşde ýazylan fiziki maýatnigiň periodyny kesgitlemek üçin formulany alarys. Bu formuladan, $I = ma \ell_g$ bolýandygyny göz önünde tutup, agyrlık güýjüniň tizlenmesini kesgitlemek üçin

$$g = \frac{4\pi^2 \cdot \ell_g}{T_f^2} \quad (14)$$

görnüşde hasaplama formulasyny alarys.

Işň ýerine ýetirilişi.
Matematiki maýatnigiň kömegi bilen agyrlýk güýjüniň
tizlenmesiniň kesgitlenilişi.

1. Abzalyň işleýşini barlamaly (3-nji çyzga seret).
2. Aşaky kronşteýni sütüniň aşak ujunda şkalada 50 sm töweregi görner ýaly edip berkitmeli.
3. Fotoelektrik görkezijiniň korpusyndaky çyzyk şardaky çyzyk bilen gabat gelmeli.
4. Şarjagazy 4 -5⁰ gyşardyp maýatnigi herekete getirmeli.
5. “Sbros” diýen düwmäni basyň.
6. 10 yrgyldydan soň “stop” düwmäni basyň.
7. 7-nji formula boýunça T_m -ni tapyň.
8. Şkala boýunça maýatnigiň ℓ uzynlygyny belläň.
9. 6-njy formula boýunça g -ni hasaplaň.



3-nji çyzgy.FPM-04 belgili uniwersal maýatnik. 1- desganyň esasy, 2 - aýajyklar, 3 - sütün, 4-ýokarky kronşteýn , 5- aşaky kronşteýn, 6-fotoelektrik görkeziji, 7 - şar, 8 - diskler berkidilen steržen (öwrülme maýatnigi), 9 - matematiki maýatnigiň sapagyny sazlaýjy, 10 - ölçeýji blok, 11-maýatnigi berkidiji.

Öwrülme maýatnigiň kömegi bilen agyrlyk güýjüniň tizlenmesiniň kesgitlenilişi.

1. Ýokarky kronşteýni 180^0 öwürüň.
2. Diskleri steržende biri onuň ujyna ýakyn, beýlekisi bolsa ortasyna golaý bolar ýaly berkidiň.
3. Maýatnigiň aýajyklarynyň birini sterženiň erkin ujunyň ýakynynda, beýlekisini bolsa diskleriň ortasynda ýerleşdiriň.
4. Maýatnigi ýokarky kronşteýnde sterženiň ujundaky aýajykda oturdyň.
5. Maýatnigiň sterženi fotoelektrik görkezijiniň optiki okuny keser ýaly ediň.
6. Maýatnigi $4-5^0$ burça gyşardyp goýberiň.
7. “Sbros” diýen düwmäni basyň.
8. On yrgyldydan soň “stop” düwmäni basyň.
9. 7-nji formula boýunça periody (T_f) tapyň.
10. Maýatnigi aýryň we beýleki aýajygynda oturdyň.
11. Aşaky kronşteýni süýşürüp steržen optiki oky keser ýaly etmeli.
12. Maýatnigi $4-5^0$ gyşardyp goýberiň, T_m – i hasaplaň we ony 7-nji formula boýunça kesgitlenen T_f bilen deňeşdiriň.
13. Eger $T_m > T_f$ bolsa, 2-nji aýajygy sterženiň ujundaky aýajyga tarap, $T_m < T_f$ bolsa, sterženiň ortasyna tarap süýşüriň. Diskleriň we birinji aýajygyň ýagdaýlaryny üýtgetmäň.
14. Ikinji aýajygyň ýagdaýyny tä $T \approx T_\varphi$ bolýança (0,5% takyklyk bilen) üýtgediň.
15. Aýajyklaryň aradaşlygyny (ℓ_g) belläň.
16. (14) –nji formula boýunça g-ni hasaplaň.

$$17. \quad \sigma = \frac{g - g_n}{g_n} \cdot 100\% \quad (15)$$

formula boýunça ölçegleriň işçi ýalňyşyny hasaplaň. Bu ýerde: g – ölçegleriň netijesinde tapylan baha; g_n - nazary baha [9.81 m/s^2].

Barlag üçin soraglar.

1. Matematiki maýatnik näme?
2. Fiziki maýatnik näme?
3. Öwrülme maýatnigiň fiziki maýatnikden näme tapawudy bar?
4. Fiziki maýatnigiň getirilen uzynlygy näme?
5. İşçi formulalary getirip çykaryň.
6. İş ýerine ýetirişiňiz barada gürrüň beriň.
7. Agyrlyk güýjüniň tizlenmesi geografik giňişlige we beýiklige baglymy?
8. Matematiki maýatnigiň periody (T) we agyrlyk güýjüniň tizlenmesi (g) nirede uly:
Ýerdemi ýa-da Aýda?

6 - n j y T E J R I B E I Ş I

Baglanyşykly ulgamlaryň yrgyldylaryny öwrenmek

Işiň maksady: 1. maýyşgak pružin bilen çatylan iki maýatnigiň yrgyldysynyň nazaryýetde hasaplanan ýygylgyny tejribede barlamak;
2. rezonans we “urgy” hadysalaryna gözegçilik etmek.

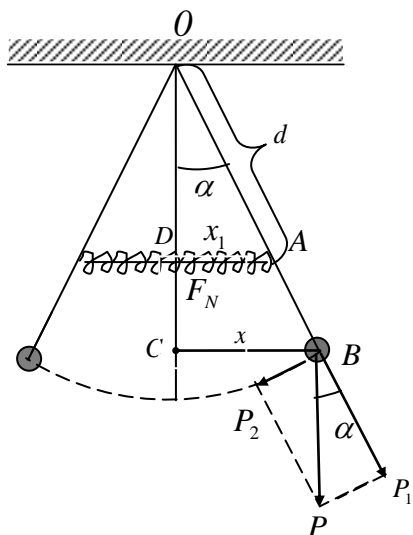
Abzallar: FPM-I3 belgili ýörite ýasalan abzal.

Gyzgaça maglumatlar

Eger maýatnikleriň ikisi-de bir tarapa deň burça gyşardylyp goýberilse, onda çatyk maýatnikler deň fazada (sinfaz) yrgyldarlar. Bu ýagdaýda yrgyldynyň ýygylgy belli bolşy ýaly (5-nji tejribe işine seret).

$$f_1^2 = \frac{1}{4\pi^2} \cdot \frac{g}{\ell} \quad (1)$$

formuladan tapylar, bu ýerde: f_1 – sinfaz yrgyldylaryň ýygylgy, s^{-1} (Gs);
 g – agyryk güýjiniň tizlenmesi, m/s^2 ;
 ℓ – maýatnigiň uzynlygy, m.



1-nji çyzgy. Erkin däl yrgyldyly hereketiň shematik görnüşi

Eger çatyk maýatnikler deň burça, ýöne garşylykly tarapa gyşardylyp goýberilse, onda yrgyldy garşylykly fazada bolar. Bu ýagdaýda maýatnige $P_2 = P \sin \alpha$ we süýnen pružinlerde döreýän $F_{m1} = -k_1 x_1$, $F_{m2} = -k_2 x_2$ maýyşgak güýçler täsir ederler (1-nji çyzgy).

Bu ýerde: $x_1 = x_2$ – pružiniň uzalmasy (gysgalmasy). Maýatnigi O nokadyň töwereginde aýlandyryan P we F_m güýçleriň momenti:

$$M = P \cdot x_1 + (k_1 + k_2) x_1 d$$

bu ýerde M – güýjiň momenti, $[J] = [N] \cdot [m]$;

P – jisimiň agramy, N; x – maýatnigiň süýşmesi, m;

k_1, k_2 – pružinleriň berkligi, N/m (abzalyň

pasportyna seret: $k_1 = 5g/sm$; $k_2 = 7g/sm$); x_1 –

pružiniň süýşmesi (uzalmasy), m.

$$\triangle ODA \sim \triangle OCB \text{ bolany üçin } \frac{x_1}{d} = \frac{x}{\ell} \text{ we } x_1 = \frac{x}{\ell} d ;$$

d – pružiniň maýatnige berkidilen ýerinden (A nokatdan) onuň asma nokadyna (O nokada) çenli aralyk. Diýmek,

$$M = x \left(P + (k_1 + k_2) \frac{d^2}{\ell} \right) \quad (2)$$

Emma gaty jisimiň aýlanma hereketi üçin

$$M = I \cdot \varepsilon , \quad (3)$$

bu ýerde: $I = m \cdot \ell^2$ - maýatnigiň inersiýa momenti, $\text{kg} \cdot \text{m}^2$;
 ε – burç tizlenmesi, s^{-2} .

$\varepsilon = \frac{a}{\ell}$; $a = w^2 x$ - çyzyk tizlenmesi. Onda ýokarky deňleme

$$M = m\ell^2 \frac{w^2 x}{\ell} = m\ell w^2 x \quad (4)$$

görnüşini alar. (2)-nji we (3)-nji deňlemeleri özara deňläp alarys:

$$m\ell w^2 x = x \left[P + (k_1 + k_2) \frac{d^2}{\ell} \right].$$

$$w^2 = 4\pi^2 f_2^2 \text{ we } m = \frac{p}{g}$$

bolýandygyny göz önünde tutup:

$$\frac{p}{g} \ell 4\pi^2 f_2^2 = P + (k_1 + k_2) \frac{d^2}{\ell}$$

deňlemäni alarys. Bu ýerden

$$f_2^2 = \frac{g}{4\pi^2} \left(\frac{1}{\ell} + \frac{(k_1 + k_2)d^2}{p\ell^2} \right)$$

deňleme alynýar.

Eger $k_1 = k_2 = k$ bolsa, onda

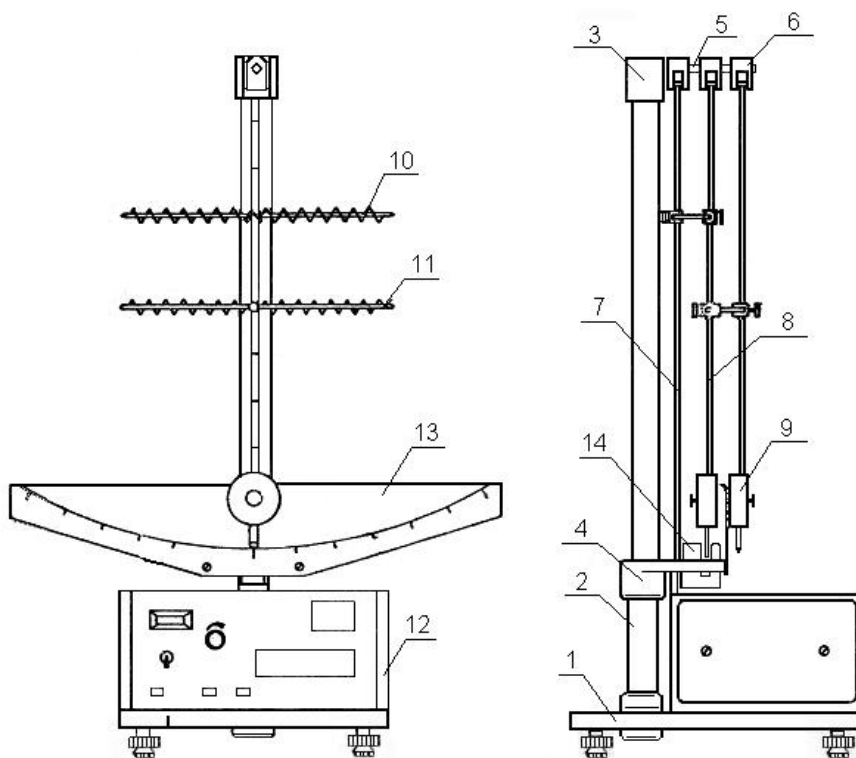
$$f_2^2 = \frac{g}{4\pi^2} \left(\frac{1}{\ell} + \frac{2kd^2}{p\ell^2} \right), \quad (5)$$

bu ýerde f_2 - garşylykly fazada yrgyldaýan maýatnikleriň yrgyldy ýygylgy, s^{-1} (Gs).

Işin ýerine ýetirilişi

1. Abzalyň dogry işleýändigini barlamaly (2-nji çyzgy).
2. (1)-nji we (5)-nji formulalar boýunça sinfaz we garşylykly fazadaky yrgyldylaryň f_1 we f_2 ýygylgylaryny hasaplaň.
3. Maýatnikleri birleşdiriň. Ýükleri (gara diskleri) bolsa sterženiň aşaky böleginde deň daşlykda berkidiň.
4. Yrgyldy oýandyryň sterženden (3-nji steržen) pružinleri boşadyň.
5. “Set” diýen düwmäni basyň.
6. Maýatnikleri bir tarapa α burça gyşardyň we olary goýberiň.
7. “Sbros” diýen düwmäni basyň.
8. 10 doly yrgyldydan soň “Stop” diýen düwmäni basyň.
9. Abzalyň görkezýän t wagtyňy we n – yrgyldy sanyny ýazyp alyň.

$$f_1 = \frac{n}{t} \quad (6)$$



2-nji çyzgy. FPM-13 belgili abzalyň umumy görnüşi. 1 - abzalyň esasy, 2 - sütün, 3 - wtulka, 4 - kronşteýn, 5 - steržen, 6 - asmalar, 7 - yrgyldy oýaryjy steržen, 8 - ýükler berkidilen steržen, 9 – ýükler, 10 - pružin, 11- pružin saklaýjy, 12 – ölçeýji blok, 13 – burç şkalasy, 14 – fotoelektrik görkeziji.

formula boýunça sinfaz yrgyldylaryň ýygylýgyny hasaplaň. Garşylykly fazadaky yrgyldylaryň ýygylýgy-da edil ýokarda aýdylyşy ýaly ýerine ýetirilýär, ýöne başda maýatnikler bir tarapa däl-de garşylykly tarapa α burça gysardylýp goýberilýär.

10. Soňra sinfaz yrgyldynyň ýygylýgynyň otnositel ýalňyşlygyny tapyň:

$$\delta_1 = \frac{|f_1 - f_{n1}|}{f_{n1}} \cdot 100\%, \quad (7),$$

bu ýerde: δ_1 – sinfaz yrgyldynyň ýygylýgynyň otnositel ýalňyşlygy;

f_1 – tejribede tapylan ýygylýk;

f_{n1} - (1)-nji nazary formuladan tapylan ýygylýk.

Edil şunuň ýaly yzygiderlilikde

$$\delta = \frac{|f_2 - f_{n2}|}{f_{n2}} 100\% \quad (8)$$

formulanyň kömegi bilen garşylykly fazada yrgyldaýan maýatnikler üçin yrgyldynyň ýygylýgy kesgitlenende göýberilýän otnositel ýalňyşlygy kesgitleýäris, bu ýerde: δ – garşylykly fazadaky yrgyldylaryň ýygylýgy kesgitlenende göýberilen otnositel ýalňyşlyk;

f_2 – tejribede tapylyan ýygylýk;

f_{n2} - (5)-nji nazary formuladan tapylyan ýygylýk.

Sinusoidal daşky täsir arkaly çatyk maýatniklerde mejbury yrgyldynyň oýandyrylyşy (rezonansa syn etmek)

Onuň üçin:

1. Maýatnikleri çatýan pružinleri yrgyldy oýandyryýan steržene baglamaly.
2. Dwigateli (hereketlendirijini) toga birleşdiriş.
3. Hereketlendirijiniň aýlaw sanyny üýtgedip, maýatnikleriň yrgyldy amplitudalaryna gözegçilik ediň.
4. Maýatnikleriň 20^0 -a golaý amplitudaly yrgyldylarynda rezonans hadysasynyň nähili bolup geçýändigine gözegçilik ediň.

Çatyk maýatniklerde “urgy” hadysasyna syn etmek üçin

1. Maýatnikleri çatyjy pružinleri yrgyldy oýandyryjy sterženden boşadyň.
2. Maýatniklerde islendik parametrleri goýuň (dürli uzaklykda, massada).
3. Maýatnikleriň birini islendik burça gyşardyp goýberiş.
4. Bolup geçýän hadysa gözegçilik ediň.

Barlag üçin soraglar

1. Erkin däl ulgamlara mysallar getirish.
2. İşçi formulalary getirip çykaryň we düşündiriş.
3. İşin ýerine ýetirilişini düşündiriş.
4. Erkin (hususy), erkin däl yrgyldylar näme? Nähili yrgylda togtaýan, mejbury yrgyldy diýlýär?
5. Rezonas hadysasy näme? Onuň duş gelýän peýdaly we zyýanly ýerlerine mysallar getirish.
6. Yrgyldylalaryň goşulyşy “urgy” hadysasy barada düşündiriş beriň.

7 - n j i T E J R I B E I Ş I

Makswelliň maýatniginde metal halkalaryň inersiýa momentlerini kesgitlemek

Işiň maddasy: energiýanyň saklanmak kanuny esasynda metal halkalaryň inersiýa momentini kesgitlemek.

Abzallar: FPM-03 belgili ýasalan abzal.

Gysgaça maglumatlar

Energiýanyň saklanma kanuny boýunça *izolirlenen* (ýalňyzlanan) *ulgamyň mehaniki energiýasy herekediň dowamynda üýtgemeyär.*

h beýiklige galdyrylan m massaly ulgamyň potensial energiýasy bar. Ol aşaklygyna goýberilende agyrlık merkezi v tizlik bilen göniçyzykly hereket edip, $\frac{m g^2}{2}$ kinetik energiýa eýe bolýar. Disk öz okunyň daşyndan ω burç tizligi bilen

aýlanýar we ol jisim $\frac{I \omega^2}{2}$ energiýa eýe bolar. Onda

$$mgh = \frac{m g^2}{2} + \frac{I \omega^2}{2} \quad (1)$$

deňligi ýazyp bolar. Bu ýerden:

$$I = \frac{2mgh - m g^2}{\omega^2} \quad (2)$$

Emma $\omega = \frac{g}{r} = \frac{2g}{D}$, (bu ýerde r , D - diskiň radiusy we diametri);

$$v = at \quad h = \frac{at^2}{2} = \frac{at \cdot t}{2} = \frac{gt}{2} \quad (3)$$

Bu ýerden: $v = \frac{2h}{t}$; onda

$$I = \frac{\left(2mgh - m \frac{4h^2}{t^2}\right) \cdot D^2}{4 \cdot \frac{4h^2}{t^2}}$$

ýa-da

$$I = \frac{1}{4} \cdot m D^2 \left(\frac{g \cdot t^2}{2 \cdot h} - 1 \right) \quad (4)$$

bu ýerde: I - maýatnigiň inersiýa momenti, $\text{kg} \cdot \text{m}^2$;

D - maýatnigiň daşyna ýüp oralan okunyň diametri, m ;

t - maýatnigiň aşak düşme wagty, s ;

g - agyrlık güýjüniň tizlenmesi, m/s^2 ;

h - maýatnigiň galdyrylan beýikligi, m ;

m - halka bilen birlikde maýatnigiň massasy, kg ;

$$m = m_o + m_d + m_p \quad (5)$$

bu ýerde:

m_o -maýatnigiň okunyň massasy, kg;

m_d - diskiň massasy, kg;

m_p - diske geýdirilen halkanyň massasy, kg.

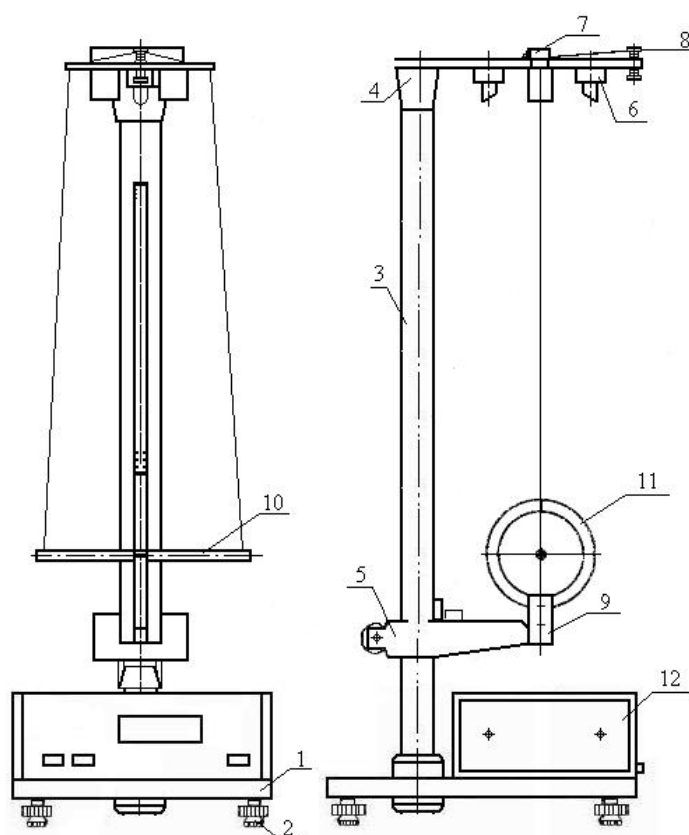
(Bu massalaryň her biriniň san bahasy okda, diskde, halkada ýazylandyr). Maýatnigiň okunyň daşky diametri

$$D=D_o+2D_y, \quad (6)$$

bu ýerde: D_o -maýatnigiň okunyň diametri,m;

D_y -ýüpuň diametri,m.

($D_o=0,01m$; $D_y=0,5 \cdot 10^{-3}m$)



1-nji çyzgy. FPM-03 belgili abzalyň umumy görnüşi (Makswelliň maýatnigi).

1-abzalyň esasy, 2 - aýajyklar, 3 - sütün, 4-ýokarky (gozganmaýan) kronşteýn, 5 - gozganýan aşaky kronşteýn, 6 – elektromagnit, 7 – ýokarky fotoelektrik görkeziji, 8 -sazlaýjy nurbat, 9 – aşaky fotoelektrik görkeziji, 10- diskli ok, 11- diske geýdirilen halka, 12- ölçeyji blok.

Işın ýerine ýetirilişi

1. Aşaky kronşteýni iň aşaky ýagdaýynda goýup, bellemeli (1-nji çyzga seret).
2. Maýatnigiň diskine halkalaryň baryny geýdirmeli.
3. Maýatnigiň okuna ýüp orap, ony ýokarky ýagdaýda ýerleşdirmeli.
4. “Pusk” diýen düwmäni basyň.
5. Çarhyň gaýkasyny towlap, maýatnik aşak düşende halka fotoelektrik görkezijiniň optiki okundan 2mm-e golaý aşakda bolar ýaly edip, maýatnigiň uzynlygyny kesgitlemeli.
6. Ýene-de “Pusk” diýen düwmäni basyň.
7. Ýüpi oka endigan saraň (sarymlar biri-birine degişip durmaly).
8. Maýatnigi ýokarky ýagdaýynda elektromagnitiň kömegi bilen berkidiň.
9. Maýatnigi hereket ugruna 5⁰ çemesi öwürüň.
10. “SBROS” diýen düwmäni basyň.
11. “PUSK” diýen düwmäni basyň.
12. Abzalyň görkezýän wagtyňy belläň.
13. Tejribäni baş gezek gaýtalaň.

$$14. \quad t = \frac{1}{n} \cdot \sum_{i=1}^n t_i \quad (7)$$

formula boýunça maýatnigiň ortaça gaçma wagtyňy tapyň,
bu ýerde: n-ölçegleriň sany;

t_i- i-nji ölçegde kesgitlenen wagt;

t-ortaça wagt.

15. Wertikal sütündäki şkala boýunça maýatnigiň uzynlygyny (gaçan beýikligini) h tapyň.
16. (6)-njy formula boýunça D-ni hasaplaň.
17. (5) –njij formula boýunça maýatnigiň halka bilen birlikde massasyny (m –i) hasaplaň.
18. (4) –njij formula boýunça maýatnigiň inersiýa momentini (I –ni) hasaplaň.
19. Işın ýalňyşlygyny hasaplaň.

$$\delta = \frac{|I - I_n|}{I_n} \cdot 100\% \quad (8)$$

bu ýerde: I - tejribede (4)-nji formula boýunça tapylan inersiýa momenti , kg·m²;

I_n - inersiýa momentiniň nazary tapylan bahasy, kg·m². Inersiýa momentiniň teoriýadan tapylan bahasy aşakdaky formuladan tapylýar:

$$I_n = I_0 + I_p + I_d, \quad (9)$$

bu ýerde:

$$I_0 = \frac{1}{8} m_0 D_0^2 \quad (10)$$

I₀ - maýatnigiň okunyň inersiýa moment;

$$I_d = \frac{1}{8} m_k (D_d^2 + D_0^2) \quad (11).$$

I_K – diskiň inersiýa moment; (D_d=86 · 10⁻³ m – diskiň diametri).

$$I_p = \frac{1}{8} m_p (D_p^2 + D_k^2) \quad (12)$$

I_p – diske geýdirilen halkanyň inersiýa momenti
($D_p = 105 \cdot 10^{-3} \text{ m}$ – halkanyň daşky diametri).

Barlag üçin soraglar

1. Makswelliň maýatnigini häsiýetlendirin.
2. Inersiýa momenti näme? Dürli jisimler üçin inersiýa momentini kesgitleniş formulalaryny ýazyň.
3. Energiýanyň saklanma kanunyny aýdyp beriň.
4. Potensial energiýanyň we aýlanma hereketlerindäki kinetik energiýanyň formulalaryny ýazyň.
5. Işçi formulany getirip çykaryň we düşündiriň.
6. Işiň ýerine ýetirilişini aýdyp beriň.

8 - n j i T E J R I B E I Ş I

Gaty jisimiň aýlanma hereketiniň dinamiki kanunyny barlamak (Oberbekiň maýatnigi)

Işiň maksady: gaty jisimiň aýlanma hereketiniň dinamiki kanunyny barlamak we Oberbekiň maýatniginiň inersiýa momentini kesgitlemek.

Abzallar: FPM-06 tipli ýörite ýasalan abzal.

Gysgaça maglumatlar

Gaty jisimi okuň töwereginde aýlandyryjy güýjüň momenti:

$$M = I \cdot \varepsilon, \quad (1)$$

bu ýerde: M – güýjüň aýlandyryjy momenti:

$$M = F \cdot r = m \cdot (g - a) \cdot r; \quad (2)$$

bu ýerde: m – aşak düşýän ýüküň massasy, kg;

g – agyrlyk güýjüň tizlenmesi, m/s^2 ;

F – diske täsir edýän güýç, N;

r – diskin radiusy, m,

$$a = \frac{2h}{t^2} - \text{çyzyk tizlenmesi} \quad (3)$$

h – ýüküň deňtizlenip gaçan beýikligi, m;

t – ýüküň gaçyş wagty, s.

$$\varepsilon = \frac{a}{r} - \text{burç tizlenmesi.} \quad (4)$$

Onda:
$$\varepsilon = \frac{2h}{t^2 r} \quad (5)$$

(1) we (2) formulalary deňeşdirip alarys

$$I = \frac{M}{\varepsilon} = \frac{m \left(g - \frac{2h}{t^2} \right) r^2 t^2}{2h} \quad (6)$$

Inersiýa momentini nazary hasaplap hem bolýar. Onuň üçin şu işde

$$I_n = I_0 + 4m_1 R^2 + 4 \frac{m_2 \ell^2}{3} \quad (7)$$

formuladan peýdalanmaly.

Bu ýerde: I_0 – iki basgançakly diskiň, okuň we hatjanyň wtulkasynyň inersiýa momentleriniň jemi;

$4m_1 R^2$ – hatjadaky gozganýan ýükleriň inersiýa momentleri;

R – aýlanma okundan ýüke çenli aralyk;

m_1 – gozganýan ýüküň massasy ($m_1 = 42 \text{ g} = 0,042 \text{ kg}$);

$4 \frac{m_2 \ell^2}{3}$ – hatjanyň ýüksüz inersiýa moment;

ℓ – hatjanyň sterženiniň uzynlygy, m;

m_2 – sterženiň massasy, kg.

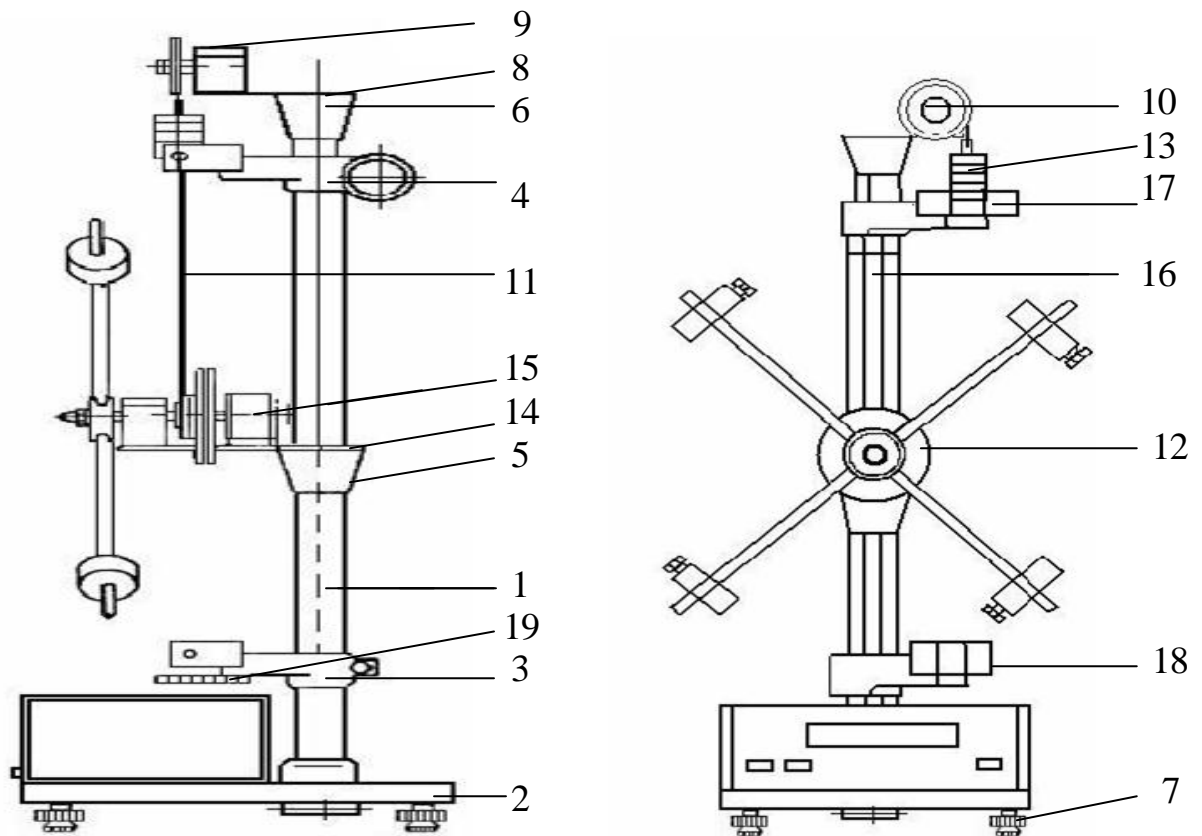
Işin ýerine ýetirilişi

1. Abzalyň işleýşini barlaň (1-nji çyzgy).
2. Isledigiňizçe ýükleri berkidiň.
3. Hatjany aýlap ýükleri galdyryň we ýükleriň aşaky gyrasyny ýokarky fotoelektrik görkezijiniň korpusyndaky çyzyk bilen gabat getirin.
4. Wertikal sütün boýunça h beýikligi bellän.
5. “Start” diýen düwmäni basyň.
6. Abzalyň görkezmesi boýunça ýükleriň h beýiklikden t gaçyş wagtyny bellän.
7. Ölçegleri 5 gezek gaýtalap geçiriň we $t = \frac{1}{n} \cdot \sum_{i=1}^n t_i$ formula boýunça ýüküň gaçyş wagtynyň ortaça bahasyny tapyň, bu ýerde n – ölçegleriň sany; t_i – i -nji ölçegde ýüküň gaçyş wagty.
8. (6)-nny formula boýunça inersiýa momentini kesgitläň.
9. Inersiýa momentiniň kesgitlenişiniň otnositel ýalňyşlygyny tapyň. Onuň üçin

$$\delta = \frac{|I_n - I|}{I_n} \cdot 100\% \text{ formulany peýdalanyň. Bu ýerde:}$$

I_n – (7)-nji formula boýunça hasaplanan inersiýa momenti;

I – (6)-nny formula boýunça tejribede tapylan inersiýa momenti.



1-nji çyzgy. FPM-06 belgili abzalyň umumy görnüşi (Oberbekiň maýatnigi).

1-wertikal sütün, 2-abzalyň esasy, 3,4-degişlilikde aşaky süýşmeýän we ýokarky süýşýän kronşteýnler, 5, 6-aşaky we ýokarky wtulkalar, 7 – aýajyklar, 8 – ýokarky esas, 9 –podşipnikli disk, 10- disk, 11-sapak, 12-iki basgançakly disk, 13-ýükler, 14-elektromagnidiň daýanjy, 15 - togtadyjy elektromagnit, 16 - millimetrli şkala, 17, 18- ýokarky we aşaky fotelektrik görkezijiler, 19-ýükleriň hereketini togtadyjy rezin düşelen esas, 20- ölçeyji blok.

Barlag üçin soraglar

1. Aýlanýan gaty jisim üçin Nýutonyň 2-nji kanuny nähili ýazylýar we okalýar?
2. Oberbekiň maýatniginiň gurluşyny we işleýşini düşündiriň.
3. Işçi formulany getirip çykaryň.
4. Inersiýa momenti näme? Disk, steržen, material nokat üçin inersiýa momentiniň formulalaryny ýazyň (getirip çykaryň).
5. Işiň ýerine ýetirilişini aýdyp beriň.
6. Işçi ýalňyşlygy nädip tapdyňyz?

9 - n j y T E J R I B E I Ş I

Ballistiki towlanma maýatniginde okuň tizligini kesgitlemek

Işň maksady: okuň uçuş tizligini kesgitlemek

Abzallar: FPM-09 belgili ýörite ýasalan abzal.

Gyzgaça maglumatlar

Towlanma maýatnigi fiziki maýatnikdir. Aýlanma hereket üçin

$$M = I \cdot \varepsilon \quad (1)$$

bu ýerde $M = f_t \cdot \varphi \quad (2).$

M- aýlandyryjy güýjüň momenti, f_t – towlanma moduly; φ – towlanma burçy; I – inersiýa momenti.

$$\varepsilon = \frac{d^2\varphi}{dt^2} \quad (3)$$

ε -burç tizlenmesi. Onda (1) - nji , (2) - nji we (3) - nji formulalardan alarys:

$$f_t \cdot \varphi = I \cdot \frac{d^2\varphi}{dt^2} \quad \text{ýa-da} \quad \frac{d^2\varphi}{dt^2} = -\frac{f_t}{I} \cdot \varphi \quad (4)$$

(-) alamaty aýlandyryjy momentiň mydama φ burçy kiçeltmäge ugrugany üçin goýulýar.

(4) –nji formulany $\frac{d^2\varphi}{dt^2} + \frac{f_t}{I} \cdot \varphi = 0$ görnüşde ýazyp we

$$\frac{f_t}{I} = w^2, \quad w^2 = \frac{4\pi^2}{T^2} \quad (5)$$

bolýandygyny hasaba alyp $\frac{f_t}{I} = \frac{4\pi^2}{T^2}$

gatnaşygy alarys. Bu ýerden towlanma yrgyldysynyň periody üçin

$$T = 2\pi \sqrt{\frac{I}{f_t}} \quad (6)$$

görnüşli formula alnar. Bu formulany towlanma maýatnigiň iki ýagdaýy üçin: ýükler aýlanma okuna golaý we ýükler aýlanma okundan daşda goýlan ýagdaýlary üçin ýazalyň:

$$T_1^2 = 4\pi^2 \frac{I_1}{f_T} \quad (7)$$

$$T_2^2 = 4\pi^2 \frac{I_2}{f_T} \quad (8)$$

(7)- nji formuladan (8) – nji formulany aýralyň:

$$T_1^2 - T_2^2 = 4\pi^2 \frac{I_1 - I_2}{f_t}, \quad (9)$$

bu ýerden

$$f_t = \frac{4\pi^2 (I_1 - I_2)}{T_1^2 - T_2^2} \quad (10)$$

$$\text{emma} \quad M_0 = f_t \cdot \varphi_0 = \frac{4\pi^2 \cdot \alpha (I_1 - I_2)}{T_1^2 - T_2^2} \quad (11)$$

bu ýerde : $\varphi_0 = \alpha$ – maýatnigiň maksimal towlanma burçy. M_0 – aýlandyryjy momentiniň maksimal bahasy.

Maýatnigiň inersiýa momenti:

$$I_1 = I_0 + 2mR_1^2 \quad (12)$$

$$I_2 = I_0 + 2mR_2^2 \quad (13)$$

görnüşde ýazylyp bilner. Bu ýerde:

I_1 – birinji ýagdaýda inersiýa momenti;

I_2 – ikinji ýagdaýda inersiýa momenti;

I_0 – ýüksüz maýatnigiň inersiýa momenti;

m – ýükiň massasy

R_1 – ýükleriň birinji ýagdaýda okdan daşlygy;

R_2 – ýükleriň ikinji ýagdaýda okdan daşlygy.

$$\text{Onda} \quad I_1 - I_2 = 2m(R_1^2 - R_2^2) \quad (14)$$

(14) –nji formuladan $I_1 - I_2$ tapawudyň bahasyny (11) –nji formulada goýup,

$$M_0 = \frac{8\pi^2 m \alpha (R_1^2 - R_2^2)}{T_1^2 - T_2^2} \quad (15)$$

aňlatmany alarys.

Yrgyldy wagtynda towlanma burçy $\varphi = \varphi_0 \sin \omega t = \varphi_0 \sin \alpha$, (bu ýerde $\alpha = \omega t$) kanun boýunça üýtgeýär diýeliň, ýagny yrgyldyny garmoniki hasaplaýň. Onda $dM = f d\varphi = f \varphi_0 d(\sin \alpha)$. Çärýek periodyň dowamynda ($0 \leq \varphi \leq \pi/2$) momentiniň orta bahasy şeýle tapylýar:

$$M_{or} = \frac{1}{\pi/2} \int_0^{\pi/2} f \varphi_0 d(\sin \alpha) = \frac{f \cdot \varphi_0}{\pi/2} \cdot \sin \alpha \Big|_0^{\pi/2} = \frac{2\varphi_0 f}{\pi};$$

$$\text{emma} \quad f \cdot \varphi_0 = M_0,$$

onda

$$M_{or} = \frac{2}{\pi} \cdot \frac{8\pi^2 m \cdot \alpha (R_1^2 - R_2^2)}{T_1^2 - T_2^2} \quad (16).$$

Aýlanýan gaty jisim üçin dinamikanıň 2-nji kanunyny (aýlawly hereketiň dinamikasynyň esasy deňlemesini) şeýle ýazmak bolar:

$$\frac{\Delta L}{\Delta t} = M_{or} \quad (17)$$

bu ýerde: ΔL – hereket mukdarynyň momentiniň üýtgemesi;

Δt – bu üýtgemäniň bolup geçen wagty.

$$\Delta L = m_0 \cdot \Delta v \cdot r \quad (18)$$

bu ýerde: m_0 – okuň massasy; Δv – tizligiň üýtgemesi; r – okuň ýelmeşen ýerinden aýlanma okuna çenli aralyk

$$\Delta t = \frac{T}{4} \quad (19),$$

$$M_{or} = \frac{\Delta L}{\Delta t} = \frac{4m_0 \cdot \Delta v \cdot r}{T} \quad (20)$$

Onda (16) - nji we (20) – nji formulalary özara deňläp, alarys:

$$\frac{4m_0 \cdot v \cdot r}{T_1} = \frac{2 \cdot 8\pi^2 m \alpha (R_1^2 - R_2^2)}{\pi(T_1^2 - T_2^2)}$$

ýa-da

$$v = \frac{4\pi m \alpha T_1 (R_1^2 - R_2^2)}{m_0 \cdot r (T_1^2 - T_2^2)} \quad (21)$$

Iş iň ýerine ýetirilişi

1. Abzalyň işleýändigine göz ýetiriň (1-nji çyzga seret).
2. Ýükleri biri-birine ýakyn arada goýuň, R_2) – ni ölçäň.
3. Maýatnigi nol ýagdaýa getir iň $\alpha = 0$.
4. Oky pružinli pistoletden atyň.
5. Okuň massasyny terezide ölçäň m_0 .
6. Maýatnigiň gyşaran iň uly burçuny α –ny belläň.
7. Abzaly işlediň.
8. Maýatnigi α burça towlap goýber iň.
9. 10 yrgyldydan soň t wagty belläň.
10. $T_1 = \frac{t}{10}$; $\frac{t}{w} = T_1$ formula boýunça periody tapyň.
11. (21) –nji formula boýunça okuň tizligini hasaplaň.
12. Abzalyň işçi ýalňyşlygyny

$$\delta = \frac{v_1 - |v_{or}|}{|v_{or}|} \cdot 100\% \quad (22)$$

formula boýunça tapyň.

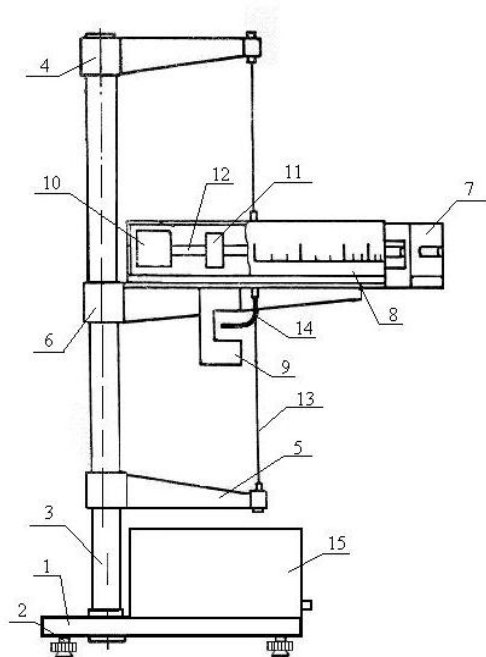
Bu ýerde: v_1 - (21) - nji formula boýunça tapylan tizlik;

v_{or} - okuň uçuş tizliginiň orta bahasy

$$v_{or} = \frac{\sum_{i=1}^z |v_i|}{z}; \quad (23)$$

z – ölçegleriň sany;

v_i – i –nji ölçegde tapylan tizlik



1-nji çyzgy. FPM-09 belgili abzalyň umumy görnüşi (ballistik towlanma maýatnigi). 1- abzalyň esasy, 2 - aýajyklar, 3 -sütün, 4, 5,6 – degişlilikde ýokarky, aşaky we ortaky kronşteýnler, 7 – atyjy gurluş, 8 –burç şkalasy, 9 – fotoelektrik görkeziji, 10- içi plastilinli gapjagaz, 11- ýük, 12- steržen, 13- polat sim, 14- sime berkidilen aýlanyjy, 15- ölçeyji blok.

Barlag üçin soraglar

1. Hereketiň tizligi näme?
2. Towlanma yrgyldynyň periodyny getirip çykaryň we düşündiriň.
3. Güýjüň momenti , inersiýa momenti we hereket mukdarynyň momenti näme?
4. Işçi formulany getirip çykaryň we düşündiriň.
5. Iş iň ýerine ýetirilişini aýdyp beriň.

10 - n j y T E J R I B E I Ş I

Impulsyň momentiniň saklanma kanuny we giroskopiki effekti barlamak

Işiň maksady: impulsyň momentiniň saklanma kanuny esasynda giroskopyň presessiasynyň burç tizligini, giroskopyň kinetiki momentini, diskiň we hereketlendirijiniň rotorynyň inersiýa momentini kesgitlemek.

Abzallar: FPM-10 belgili ýörite ýasalan abzal.

Gysgaça maglumatlar

Giroskop – erkin oklarynyň daşynda uly tizlik bilen aýlanýan gaty jisimdir.
Giroskopyň hereketi.

$$H \cdot \frac{d\alpha}{dt} = M_x \quad (1)$$

$$H \cdot \frac{d\beta}{dt} = M_y \quad (2)$$

$$H \cdot \frac{d\gamma}{dt} = M_z \quad (3)$$

deňlemeler bilen ýazylyp beýan edilýär. Bu ýerde:

M_x, M_y, M_z – daşky güýçleriň momentleriniň proyeksiýalary;

H – giroskopyň kinetiki momenti (diskli hereketlendirijiniň rotorynyň aýlandyryjy momenti);

$\frac{d\alpha}{dt}$ - Ox oky boýunça presessiasyň burç tizligi;

$\frac{d\beta}{dt}$ - Oy oky boýunça presessiasyň burç tizligi;

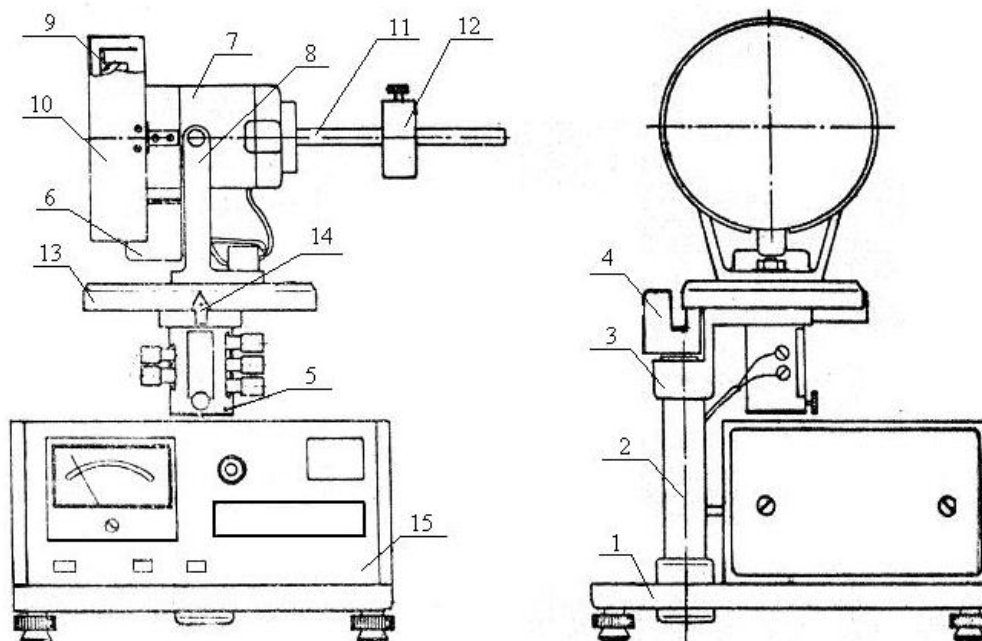
$\frac{d\gamma}{dt}$ - Oz oky boýunça presessiasyň burç tizligi.

$$H = I_z w \quad (4)$$

bu ýerde: I_z – diskiň we hereketlendirijiniň rotorynyň inersiýa momenti;

w – hereketlendirijiniň burç tizligi.

Ýönekeýlik üçin $M_y = M_z = 0$ hasap edilýär. M_x belli bolsa, presessiasyň burç tizligini ölçäp, giroskopyň kinetiki momentini kesgitläp bolýar. (4) –nji formula boýunça hereketlendirijiniň rotorynyň islendik burç tizliginde (w), onuň we diskiň bilelikdäki inersiýa momentini (I_z) tapyp bolar.



1-nji çyzgy. FPM-10 belgili abzalyň umumy görnüşi (giroskop).

1-abzalyň esasy, 2 - sütün, 3 – aşaky kronşteýn, 4 – aşaky fotoelektrik görkeziji, 5 – aýlaýjy birleşdiriji, 6 –ýokarky fotoelektrik görkeziji, 7 – elektrik hereketlendiriji, 8 – ýokarky kronşteýn, 9 – ýük, 10- ekran, 11-ryçag, 12-süýşýän ýük, 13- disk, 14- burç görkeziji, 15 - ölçeyji blok.

Giroskopyň presessiýa wagtynyň we burçunyň ölçenilişi

1. Süýşýän ýükiň kömegi bilen giroskopyň ryçagyny wertikal oka perpendikulýar ýerleşdirmeli (1-nji çyzga seret).
2. Hereketlendirijini işletmeli.
3. Hereketlendirijiniň rotoryny: aýlaw sany 6000 aýlaw/min töweregi bolar ýaly etmeli.
4. Ýüki çepe we saga 2 sm süýşürmeli.
5. “SBROS” diýen düwmäni basyň.
6. Girokop $\alpha = 30^\circ$ töweregine öwrülende “STOP” diýen düwmäni basyň.
7. Abzalyň görkezýän wagtyny belläň.
8. $\left| \frac{d\alpha}{dt} \right| = \frac{\alpha}{t} = w$ boýunça presessiýanyň burç tizligini hasaplaň.
9. Tapylan ululyk 1 bolmaly.

Giroskopyň kinetiki momentiniň ölçenilişi

Presessiýanyň burç tizligi (w) belli bolandan soň (8-nji punkta seret), $M_x = P \times x$ formula boýunça M_x tapyp, (1)-nji formuladan giroskopyň H kinetiki momentini hasaplap bolar. Bu ýerde: P - süýşýän ýükiň agramy; x – onuň okdan uzaklygy.

Hereketlendirijiniň rotorynyň we diskiň inersiýa momentiniň ölçenilişi

Hereketlendirijiniň rotorynyň kinetiki momentini (H) we onuň presessiyasynyň burç tizligini (ω) bilip, (4)-nji formuladan gözlenilýän ululygy tapyp bolar.

Barlag üçin soraglar

1. Giroskop näme? Onuň gurluşy we işleýşi barada aýdyp beriň.
2. Gaty jisimiň erkin oklary näme?
3. Giroskopyň presessiyasy diýip nämä aýdylýar? Onuň burç tizligi nämelere bagly?
4. Işçi formulalary ýazyň we işiň ýerine ýetirilişini düşündiriň.

11 – nji T E J R I B E I Ş I

Yrgyldylar usuly bilen tigriň inersiýa momentiniň kesgitlenişi

Işiň maksady : tigriň inersiýa momentini kesgitlemek.

Abzallar : ýörite ýasalan tigrirli desga, terezi, ştangensirkul, çyzgyç.

Gysgaça maglumatlar

Inersiýa momenti gaty jisimiň aýlanma hereketinde onuň inertliliginiň ölçegidir. Öňe hereketde massa nähili wezipäni ýerine ýetirýän bolsa, aýlanma hereketinde inersiýa momenti hem şol wezipäni ýerine ýetirýär. Inersiýa momenti jisimiň massasyna we onuň aýlanma okuna görä paýlanyşyna-da baglydyr.

Gorizonta okuň töwereginde garmoniki yrgyldaýan tigr üçin Nýutonyň 2-nji kanuny şeýle ýazylýar:

$$M_{or} = (I_T + I_y) \varepsilon \quad (1)$$

bu ýerde: M_{or} - massaly ýükli tigr aýlandyryjy güýjüň ortaça momenti;
 I_T, I_y - tigriň we ýüküň inersiýa momentleri; ε - burç tizlenmesi.

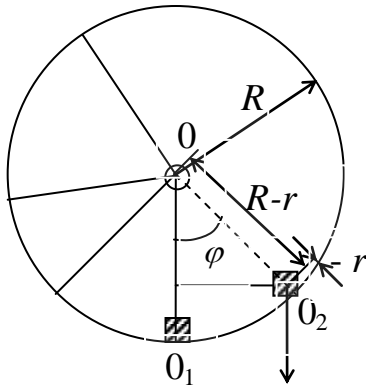
$$\varepsilon = \frac{d^2 \varphi}{dt^2} = \varphi''$$

1-nji çyzgydan görnüşi ýaly,

$$M_{or} = \frac{mg O_2 O_1}{2} \quad (2)$$

$\Delta O_2 O_1$ - den

$$O_2 O_1 = \frac{R - r}{\sin \varphi} = (R - r) \varphi \quad (3)$$



1-nji çyzgy. Inersiýa momentiniň kesgitlenişine düşündirme.

(1)-nji, (2)-nji we (3)-nji formulalardan:

$$\frac{mg(R-r)\varphi}{2} \cong (I_T + I_{\dot{u}}) \cdot \varphi'' \quad (4)$$

Tigriň yrgyldysy garmoniki bolany üçin

$$\varphi = \varphi_o \sin \omega t \quad (5)$$

onda

$$\varepsilon = \varphi'' = (\varphi_o \sin \omega t)'' = (\varphi_o \omega \cos \omega t)' = -\omega^2 \varphi_o \sin \omega t$$

ýa-da

$$\varepsilon = \varphi'' = -\omega^2 \varphi \quad / \varphi'' / = \omega^2 \varphi \quad (6)$$

(4) -nji we (6) -nji deňlemelerden $\frac{mg(R-r) \cdot \varphi}{2} \cong (I_T + I_{\dot{y}}) \omega^2 \varphi$

ýa-da $\omega^2 = \frac{4\pi^2}{T^2}$ bolany üçin

$$I_T \cong \frac{mg(R-r) \cdot T^2}{8\pi^2} - I_{\dot{y}} \quad (7)$$

m massaly goşmaça ýüküň beýikligi $(2r)$ tigriň radiusyndan (R) ep-esli kiçi $(R \gg 2r)$ bolany üçin, ýüki material nokat hasaplap

$$I_{\dot{y}} \approx m(R-r)^2 \quad (8)$$

$$I_T \cong \frac{mg(R-r)T^2}{8\pi^2} - m(R-r)^2$$

ýa-da

$$I_T = m(R-r) \left[\frac{gT^2}{8\pi^2} - (R-r) \right] \quad (9)$$

işçi formulany alarys.

Işň ýerine ýetirilişi

1. Ýüküň m massasyny terezide çekip tapyň.
2. Ştangensirkul (ýa-da çyzgyç) bilen ýüküň beýikligini $(2r)$ we r tapyň.
3. Tigriň radiusyny (R) ölçäň.
4. Tigri $\varphi = 30 - 40^\circ$ burça gyşardyp goýberiş. 10 sany dolý yrgyldynyň

t wagtyň we $T = \frac{t}{10}$ periodyny hasaplaň.

5. (9) –njy formula boýunça tigrin inersiýa momentini kesgitläň.

6. Ölçegleri 3-5 gezek gaýtalaň.

7. Jogaby

$$I_T = I_{T,or} \pm \Delta I_T \quad (10)$$

görnüşde ýazyň. Bu ýerde: $I_{T,or}$ - (9) njy formuladan tapylýar. Onuň üçin bu formula girýän ululyklaryň ortaça bahalaryny almaly, ýagny:

$$I_{T,or} = m_{or} (R_{or} - r_{or}) \left[\frac{g_{or} T_{or}^2}{8\pi_{or}^2} - (R_{or} - r_{or}) \right] \quad (11)$$

$$\Delta I_T = E \cdot I_{T,or} \quad (12)$$

bu ýerde : ΔI_T - otnositel ýalňyşlyk. Ony tapmak üçin:

1. (9) - njy formulany logarifmirlemeli (natural)
2. Logarifmiň doly differensialyny tapmaly.
3. Şol bir ululygyň ýalňyşlygy birnäçe gezek gaýtalansa, olary toplamaly. Differensialyň öňündäki ýaýyň modulyny almaly, d belgini Δ -a çalşyrmaly. Onda aşakdaky formulany (özbaşdak barlap göz ýetiriň) alarys:

$$\begin{aligned} E = & \frac{\Delta m_{or}}{m_{or}} + \left| \frac{1 - r_{or}}{R_{or} - r_{or}} - \frac{8\pi_{or}^2 (1 - r_{or})}{g_{or} T_{or}^2 - 8\pi_{or}^2 (R_{or} - r_{or})} \right| \cdot \Delta R_{or} + \\ & + \left| \frac{R_{or} - 1}{R_{or} - r_{or}} - \frac{8\pi_{or} (R_{or} - 1)}{g_{or} T_{or}^2 - 8\pi_{or}^2 (R_{or} - r_{or})} \right| \cdot \Delta r_{or} + \\ & + \left| \frac{T_{or}^2}{g_{or} T_{or}^2 - 8\pi_{or}^2 (R_{or} - r_{or})} \right| \cdot \Delta g_{or} + \left| \frac{2T_{or} \cdot g_{or}}{g_{or} \cdot T_{or}^2 - 8\pi_{or} (R_{or} - r_{or})} \right| \cdot \Delta T_{or} + \\ & + \left| \frac{16\pi_{or} (R_{or} - r_{or})}{g_{or} \pi_{or}^2 - 8\pi_{or}^2 (R_{or} - r_{or})} \right| \cdot \Delta \pi_{or} \end{aligned} \quad (13)$$

Barlag üçin soraglar

1. Abzalyň gurluşy nähili?
2. Garmoniki yrgyldy näme? Burç (φ) çüýşmäniň we burç tizliginiň (w) deňlemelerini ýazyň.
3. Aýlanýan jisimiň kinetik energiýasynyň formulasyny ýazyň.
4. Işçi formulany getirip çykaryň.
5. Işin ýerine ýetiriliş tertibini aýdyp beriň.

12-nji TEJRIBE IŞI

Howanyň çyglylygyny kesgitlemek

Işin maksady: psihrometrik usul arkaly howanyň çyglylygyny kesgitlemegi öwrenmek.

Abzallar: adaty (standart) aspiration psihrometr, barometr.

Gysgaça maglumatlar

Atmosfera howasy özünde suw buglarynyň käbir mukdaryny saklaýar. Bu buglaryň mukdary özleriniň absolýut ululyklary (bahasy), şeýle hem doýgunlyk derejeleri boýunça üýtgäp durýarlar. Şol üýtgemeler hem absolýut we göräli (otnositel) çyglylyklar bilen häsiýetlendirilýär. Işin maksady şol ululyklary kesgitlemekden ybaratdyr.

$1m^3$ howada bar bolan suw bugunyň gramlarda aňladylan mukdaryna absolýut çyglylyk diýilýär. $0^{\circ}S$ temperaturada we 760 mm sim. süt.-e deň bolan basyşda $1m^3$ gury howanyň massasy 1293 g deňdir. Klapeýronyň deňlemesi esasynda $t^{\circ}S$ temperaturada we $P\text{ mm}$ sim. süt.-e deň bolan basyşda $1m^3$ howanyň massasy bolsa

$$\frac{1293}{1+\alpha t} \frac{P}{760}$$

grama deňdir (bu formulada $\alpha = \frac{1}{273} \text{ grad}^{-1}$ göwrüme giňelme koeffisiýenti). Bir deň basyşda we temperaturada suw bugunyň dykzlygynyň howanyň dykzlygyna bolan gatnaşygy $0,622$ -ä deňdir. Suw bugy üçin Klapeýronyň deňlemesini peýdalanyp (haçan-da bug doýgun ýagdaýyndan daşda bolanda), howadaky $1m^3$ suw bugunyň massasy üçin:

$$w_b = \frac{1293 \cdot 0,622}{760} \frac{P_b}{1+\alpha t} = 1,06 \frac{P_b}{1+\alpha t} \quad (1)$$

aňlatmany alarys. Eger-de suw bugunyň parsial basyşy (P_b) belli bolsa, bu aňlatmany peýdalanyp howanyň absolýut çyglylygyny kesgitlemek bolar.

(1)-nji formuladan görnüşi ýaly temperaturanyň pes bahalarynda absolýut çyglylygyň (w_b) san bahasy suw bugunyň parsial basyşyndan (P_b) az

tapawutlanýar. Şol sebäpli hem suw bugunyň parsial basyşyny absolýut çyglylyk diýip atlandyrmak we ony millimetr simap sütüninde aňlatmak kabul edilendir.

Otnositel çyglylyk şu aşakdaky aňlatma arkaly kesgitlenýär:

$$\varphi = \frac{P_b}{P_{d,b}} 100\%, \quad (2)$$

bu ýerde $P_{d,b} - t$ temperaturada doýgun bugyň parsial basyşy. Şeýlelikde otnositel çyglylyk berlen temperaturada howanyň suw bugy bilen doýrulyş derejesini häsiýetlendirýär.

Howanyň otnositel çyglylygyny kesgitlemek üçin adatça tablisa maglumatlaryny ulanyp ýa jýbar nokadyny kesgitlemek usulyndan ýa-da psihrometrik usuldan peýdalanmak bolar.

Howanyň çyglylygyny ölçemegiň iň giň ýaýran usuly - psihrometrik usuldyr. Birmeňzeş howa akymynyň ugrunda ýerleşen iki sany birmeňzeş termometrleriň görkezmeleri deň bolar. Eger-de termometrleriň biriniň termometrik madda ýerleşdirilen gapjagazy hemişe öllenen ýagdaýda bolsa, mysal üçin öl matajyk bilen örtülen bolsa, termometrleriň görkezmeleri dürli bolar. “Öl” termometr diýlip atlandyrylýan termometriň öllenen üstünden suwuň bugarmasynyň bolýanlygy sebäpli, ol gury termometriň görkezmesine garanda pes temperaturany görkezýär. Daşky howanyň çyglylygy näçe pes bolsa, bugarma şonça-da çalt (intensiw) bolar, öl termometriň görkezmesi hem pes bolar. Iki termometriň görkezmeleri boýunça temperaturalaryň tapawudy kesgitlenýär, şol hem howanyň çyglylygyny häsiýetlendirýär. Bugarmanyň durnuklaşan režiminde, ýagny öl termometriň temperaturasy hem durnukly bolanda, oňa daşdan gelyän Q_1 ýylylyk mukdary termometriň üstünden suwuň bugarmasy üçin harçlanýan Q_2 ýylylyk mukdaryna deň bolar. Nýutonyň kanunyna görä, birlik wagtda daşky gurşawdan anyk gögnüşde alnan ýylylyk mukdary:

$$Q_1 = \alpha(t - t_1)S_1, \quad (3)$$

bu ýerde $t - t_1$ - gury we öl termometrleriň görkezmeleriniň arasyndaky iň uly temperatura tapawudy; S_1 - öl termometriň termometrik madda ýerleşdirilen gapjagazynyň üstüniň meýdany; α - proporsionallyk (ýylylyk berijilik) koeffisiýenti.

Daltonyň kanunyna görä wagt birligindäki bugaran suwuň mukdary

$$m = \frac{\beta S_2 (P_{d,b} - P_b)}{P_a}$$

aňlatma arkaly kesgitlenýär, bu ýerde: m - bugaran suwuň massasy; S_1 - bugarýan üstüň meýdany; P_a - howanyň (atmosfera) basyşy; $P_{d,b} - t_1$ temperaturadaky, ýagny bugarýan suwuklygyň temperaturasyndaky doýgun suw bugunyň parsial basyşy; P_b - howadaky bar bolan suw buglarynyň parsial basyşy; β - howanyň akymynyň tizligine bagly bolan proporsionallyk (massa berijilik) koeffisiýenti.

Onda wagt birliginde bugarma arkaly berlen Q_2 ýylylyk mukdary

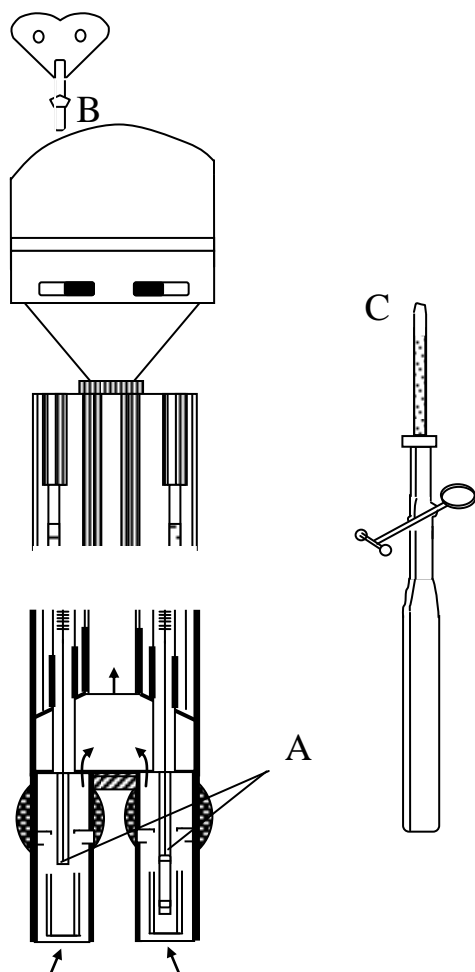
$$Q_2 = mr = \frac{\beta r S_2 (P_{d.b} - P_b)}{P_a} \quad (4)$$

görnüşli formula arkaly kesgitlenip bilner, bu ýerde: r - suwuň bugarmasynyň udel ýylylygy. $Q_1 = Q_2$ we $S_1 = S_2$ bolanda:

$$\frac{\beta \cdot r (P_{d.b} - P_b)}{P_a} = \alpha (t - t_1);$$

$$P_b = P_{d.b} - A(t - t_1) P_a, \quad (5)$$

bu ýerde: $A = \frac{\alpha}{\beta \cdot r}$ - ulanylýan abzalyň hemişeligi. Bu hemişeligiň ululygy esasan



1-nji cyzgy. Aspiration psihrometriň görnüşi

akymyň tizligi bilen kesgitlenýär we tejribe arkaly tapylýar. Ulanylýan adaty aspiration psihrometriň gurluşy 1-nji cyzgyda görkezilen. Iki sany birmeňzeş ýörite termometrleriň (A) sagdakysynyň termometrik madda ýerleşdirilen gapjagazynyň daşyna örtülen matajyk örtülen. Aspiratoryň pružinli wentilýatory bolup, oňa B açar arkaly tow berilýär. Howa akymalarynyň ýollary peýkamjyklar arkaly görkezilen (howa akymynyň tizligi $2,5 \text{ m/s}$) we iki akym hem termometrik madda ýerleşdirilen gapjagazlaryň ýokarsynda birleşip, bir akyma öwrülýär. Abzalyň gyzmagygyny aradan aýyrmak üçin onuň metal böleklerine nikel çaýylan bolýar. Çünki nikel daşardan gelyän ýylylyk we ýagtylyk şöhleleri ýokary

serpikdirijilik häsiýetine eýe. Termometriň daşyna örtülen matajyk D pipetkaly C rezin armytjygyň kömegi bilen öllenilýär. Termometriň görkezmesi hasaba alnanda ilki bilen gradusyň $0,1$ üleşleri hasaba alynýar we ondan soň bütün üleşleri hasaba alynýar. Adaty (standart) aspiration psihrometriň kömegi bilen absolýut çyglylyk aşakdaky formula [14] arkaly kesgitlenilýär:

$$P_b = P_{d,b} - 0,000662 (t - t_1) P_a . \quad (6)$$

Berlen temperaturada $P_{d,b}$ -nyň bahasyny ýörite tablisanyň kömegi bilen kesgitlemek bolar [14] (goşmaça seret).

Barometrik basyş barometriň kömegi bilen kesgitlenilýär. Eger-de tablisadan howanyň berlen temperaturadaky ony doýurýan bugynyň basyşy kesgitlenilse, onda (2)-nji formuladan otnositel çyglylygy hem kesgitläp bolar.

Işin ýerine ýetirilişi

1. Adaty aspirasion psihometriň gurluşyny we işleýşini öwreniň.
2. Rezin armytjygy çalaja gysyp, pipetkadaky suwuň derejesini ýokary galdyryň (ýöne onuň derejesi pipetkanyň ahyryna çenli 1 sm galýança ýokary görterilsin). Pipetkadaky suwuklyk derejesiniň şeýle ýagdaýyny F gysyjynyň kömegi bilen saklamaly.
3. Matany ölemek üçin pipetkany gaty seresaplylyk bilen turba salmaly, soňra gysyjyny açyp, suwuň armytjyga akmagyny gazanmaly.
4. Matajyk öllenilende suwuň beýleki (gury) termomtre we turbajygyň içki üstüne düşmeginden ägä bolmaly.
5. B açar arkaly 5-6 aýlaw edip, wentilýatora tow bermeli.
6. Termometriň görkezmesi durnuklaşansoň (4-5 minut geçenden soň) t we t_1 belläp almaly. Bu döwürde wentilýator doly güýjünde işläp durmaly.
7. Barometriň görkezmesini (P_a atmosfera basyşyny) bellemeli.
8. t temperaturadaky doýgun suw bugynyň basyşynyň ($P_{d,b}$) bahasyny ýörite tablisadan almaly.
9. Howadaky suw buglarynyň P_b parsial basyşyny (6)-njy formula boýunça hasaplamaly.
10. (1)-nji formula boýunça howanyň absolýut çyglylygyny kesgitlemeli.
11. (2)-nji formula boýunça howanyň otnositel çyglylygyny hasaplamaly.
12. Ölçeğiň ýalňyşlygyny kesgitläň. Onuň üçin $\delta = (\varphi_t - \varphi_e) \cdot 100\% / \varphi_t$ formulany ulanyň, bu ýerde δ - otnositel ýalňyşlyk; φ_t – tablisadan tapylan otnositel çyglylyk; φ_e – tejribede tapan otnositel çyglylygyňyz.

Barlag üçin soraglar

1. Absolýut çyglylyk diýip nämä aýdylýar we ol haýsy formula bilen hasaplanýar?
2. Otnositel çyglylyk nämä?
3. Howanyň çyglylygyny ölçeyji nähili abzallary bilýärsiňiz?
4. Parsial basyş nämä?
5. Howanyň çyglylygyny kesgitlemegiň nähili usullaryny bilýärsiňiz?
6. Adaty aspirasion psihometriň işleýşini düşündiriň?

13 – n j i T E J R I B E I Ş I

Damjalar usuly bilen suwuklygyň üst dartyлма koeffisiýentiniň kesgitlenişi

Işiň maksady : suwuklygyň üst dartyлма koeffisiýentini kesgitlemek

Abzallar : kranly býuretkalar, stakanlar, barlanylýan suwuklyklar.

Gysgaça maglumatlar

Suwuklygyň üstünde ýerleşen her bir molekula täsir edýän molekulýar ilişme güýçleriniň deňtäsiredjisi suwuklygyň içine ugrukdyrylandyr. Şol sebäpli suwuklygyň üstüne onuň meýdanyny kiçeltmäge ymtylýan üst dartyлма güýji täsir edýär. Güýç üstüň çyzykly ölçegine (uzynlygyna) göni proporsional

$$F = \alpha \cdot l \quad (1)$$

Has dogrusy, suwuklygyň üstünde ýerleşen molekulalaryň potensial energiýasy uludyr. Her bir üste çykan molekula bu üstüň meýdanyny artdyrýar. Şol bir wagtyň özünde üstüň potensial energiýasyda artýar.

Şonuň üçin:

$$\Delta W_p = \alpha \cdot \Delta S \quad (2)$$

aňlatmany ýazyp bolar. Bu ýerde:

ΔW_p - üstki potensial energiýanyň artymy;

ΔS - üstki meýdanyň artymy;

α - üst dartyлма koeffisiýenti.

(2) – nji formuladan:

$$\alpha = \frac{\Delta W_p}{\Delta S}, \quad \left[\frac{J}{m^2} \right]. \quad (3)$$

Üst dartyлма koeffisiýenti (α) suwuklygyň üstüniň meýdany bir birlige üýtgände üstki potensial energiýanyň üýtgemesine san taýdan deň ululykdyr. Emma $\Delta W_p = Fl$ we $\Delta S = l^2$ bolany üçin:

$$\alpha = \frac{Fl}{l^2} = \frac{F}{l} \quad \left[\frac{N}{M} \right],$$

ýagny (1)–nji formula gelip çykýar.

Bu ýerde:

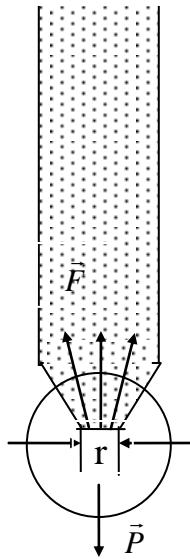
F - üst dartyлма güýji;

l - üstde alnan uzaklyk.

Diýmek, başgaça aýdylanda, üst dartyлма koeffisiýenti uzynlyk birligine täsir edýän üst dartyлма güýjüne san taýdan deň ululykdyr.

Býuretkadan damjalaryň gopuşyna syn edeliň. Damjanyň gopmagy üçin onuň agramy (P) ony saklaýan üst dartyлма güýjünden sähelçe uly bolmaly. Üst dartyлма güýji damjanyň boýunjygynyň uzynlygyna göni proporsional

$$F = \alpha \cdot 2\pi r \quad (4).$$



1-nji çysgy. Damjalaýyn usulda üst dartylma koeffisiýentiniň kesgitlenişi.

Bu ýerde: r -damjanyň boýunjygynyň uzynlygy. r -iň bahasyny dogry tapmak kyn bolany üçin α -ny deňşdirme usuly bilen tapmak amatly. Goý, V göwrümlü bir suwuklygyň n_1 sany damjasy, edil şol göwrümlü başga suwuklygyň bolsa n_2 sany damjasy bar bolsun. Onda damjanyň gopma şertini, ýagny:

$$n_1 \cdot P_1 = d_1 \cdot V = n_1 2 \pi r \cdot \alpha_1 \quad (5)$$

we

$$n_2 \cdot P_2 = d_2 \cdot V = n_2 2 \pi r \cdot \alpha_2 \quad (6)$$

deňlikleri ýazyp bolar.

Bu ýerde: P_1 -birinji suwuklygyň bir damjasynyň agramy; P_2 -ikinji suwuklygyň bir damjasynyň agramy; d_1 , d_2 birinji we ikinji suwuklyklaryň udel agramlary; α_1 , α_2 birinji we ikinji suwuklyklaryň üst dartylma koeffisiýentleri.

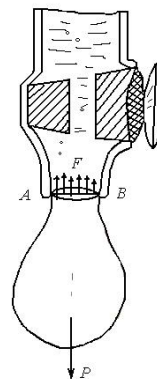
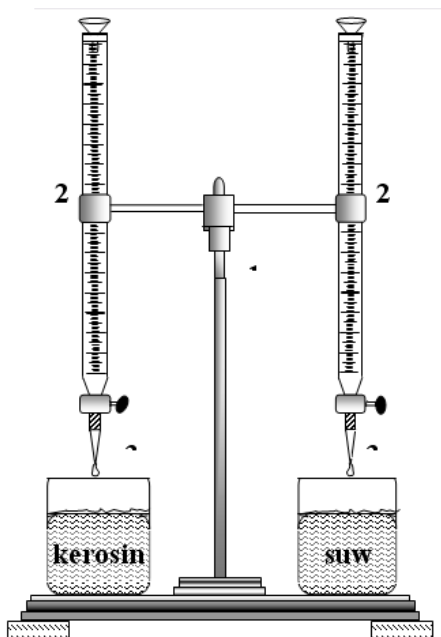
Onda (5) -nji we (6) – nji deňliklerden V -ni tapyp özara deňlenilenden soňra, alarys:

$$\frac{n_1 \cdot 2 \pi r \cdot \alpha_1}{d_1} = \frac{n_2 \cdot 2 \pi r \cdot \alpha_2}{d_2} \quad (7)$$

ýa-da

$$\alpha_2 = \frac{n_1 \cdot d_2}{n_2 \cdot d_1} \cdot \alpha_1$$

görnüşdäki işçi formulany alarys.



2-nji çyzgy. Üst dartylma koeffisiýenti kesgitlenende ulanylýan abzal

Işın ýerine ýetirilişi

1. Býuretkalaryň birine suw, beýlekisine barlanýan suwuklygy guýuň (2-nji çyzgy).
2. Tablisadan suwuň üst dartylma koeffisiýentini (α_1)-ny tapyň.
3. Tablisadan suwuň we barlanýan suwuklygyň dykzlyklaryny (ρ_1 we ρ_2) tapyň.

$$d = \rho \cdot g \quad \text{bolany üçin,} \quad \frac{d_2}{d_1} = \frac{\rho_2}{\rho_1}$$

4. Býuretkadan belli göwrümlü (göwrümi bellän) suwy damjalap akdyryň we damjalaryň sanyny bellän.
5. Beýleki býuretkadan hem edil şeýle göwrümlü barlanýan suwuklygy damjalap akdyryň we damjalaryň n_2 sanyny bellän.
6. (7) -nji formula boýunça α_2 -ni tapyň.
7. Ölçegleri 3-5 gezek gaýtalaň.
8. Jogaby :

$$\alpha_2 = \alpha_{2,or} \pm \Delta \alpha_2 \quad (8)$$

görnüşde ýazyň.

Bu ýerde:

$$\alpha_{2,or} = \frac{n_{1,or} \cdot d_{2,or}}{n_{2,or} \cdot d_{1,or}} \cdot \alpha_{1,or} = \frac{n_{1,or} \cdot \rho_{2,op}}{n_{2,or} \cdot \rho_{1,or}} \cdot \alpha_{1,or} \quad (9)$$

(Tablisadan alnan ρ_1, ρ_2, α_1 şu ululyklaryň ortaça bahalarydyr)

$$\Delta \alpha_{2,or} = E \cdot \alpha_{2,or} \quad (10)$$

Bu ýerde:

$$E = \frac{\Delta \alpha_{2,or}}{\alpha_{2,or}} = \frac{\Delta n_{1,or}}{n_{1,or}} + \frac{\Delta \rho_{2,or}}{\rho_{2,or}} + \frac{\Delta \alpha_{1,or}}{\alpha_{1,or}} + \frac{\Delta n_{2,or}}{n_{2,or}} + \frac{\Delta \rho_{1,or}}{\rho_{1,or}}; \quad (11)$$

ρ_1, ρ_2, α_1 bahalary üçin öň ölçenen sanlar tablisadan alynýar. Şeýle ýagdaýlarda absolýut ýalňyşlyk üçin onuň aňryçäk bahasy, ýagny bu ululyklaryň berlen san bahasynyň iň kiçi razrýadynyň ýarysy alynýar.

Barlag üçin soraglar

1. Üst dartylma hadysasy näme üçin döreýär?
2. Üst potensial energiýa näme?
3. Üst dartylma koeffisiýentiniň fiziki manysy näme? Ol temperatura baglymy?
4. Işçi formulany getirip çykaryň.
5. Işın ýerine ýetirilişini düşündiriň.
6. Işde goýberilen absolýut we otnositel ýalňyşlyklary nähili tapdyňyz.

14 – n j i T E J R I B E I Ş I

Klemanýň - Dezormýň usuly bilen howanyň adiabata görkezijisiniň kesgitlenişi

Işin maksady: howa üçin adiabata görkezijini kesgitlemek.

Abzallar : ýörite gurnalan desga.

Gysgaça maglumatlar

Maddanyň hemişelik basyşdaky ýylylyk sygymynyň C_p onuň hemişelik göwrümdäki ýylylyk sygymyna C_v gatnaşygyna adiabata görkezijisi γ diýilýär:

$$\gamma = \frac{C_p}{C_v} \quad (1)$$

γ -nyň girizilmeginiň sebäbi C_v -ni tejribede tapmak juda kyn, tejribede tapaýanynda-da uly ýalňyşlyk goýberilýär, C_p -ni tejribede takyk tapyp bolýar. Onda C_p we γ belli bolanda (1) –nji formuladan C_v -ni takyk tapyp bolar. Ondan başga-da γ -ny bilip, molekularyň gurluşy barada netije çykaryp bolýar.

Kleman we Dezorm γ -ny kesgitlemegiň ýönekeý usulyny hödürleýärler. Çüýşeden gaba nasos bilen howa salynýar. Gapdaky howanyň basyşynyň atmosfera basyşyndan artymyny (P_1) manometr görkezzer. Soňra gabyň içindäki we daşyndaky howanyň, temperaturalary deňleşýänçä bir salym garaşmaly. Manometrdäki suwuklygyň peselmesi togtandaky ýagdaýda (1-nji ýagdaý) gabyň içindäki howanyň makroparametrleri V_1, P_1, t_o bolsun. Indi gaby atmosfera bilen baglanyşdyryp krany manometriň tirseklerindäki suwuklygyň derejeleri deňleşýänçä açyp, soň çalt ýapmaly. Şu ýagdaýda (2-nji ýagdaý) howanyň makroparametrleri V_2, P_a, t_1 bolsun. Şonda gapdaky howa adiabatik (giňelme çalt bolup geçeni üçin howa daşky sredalar bilen ýylylyk alyşyp berişmeýär, **proses adiabatik** bolýar) giňelýär. Howa sowar, kran ýapylandan soň tä manometrdäki suwuklygyň derejesi üýtgemesini goýýança garaşmaly.

Bu ýagdaýda (3-nji ýagdaý) howanyň makroparametrleri V_2, P_2, t_o bolar. Gaz 1-nji ýagdaýdan 2-njä **adiabatik** geçeni üçin Puassonyň deňlemesini ýazalyň:

$$P_1 \cdot V_1^\gamma = P_a \cdot V_2^\gamma \quad (2)$$

1-nji ýagdaýdan 3-nji ýagdaýa bolsa howa **izotermik** geçýär. Onda Boýluň-Mariottanyň formulasyndan:

$$P_1 \cdot V_1 = P_2 \cdot V_2 \quad (3)$$

3-nji deňlemäniň iki tarapynda γ derejä götereliň.

$$P_1^\gamma \cdot V_1^\gamma = P_2^\gamma \cdot V_2^\gamma$$

Muny agzamy-agza (2) –nji deňlemä böleliň. Onda

$$\frac{P_1^\gamma \cdot V_1^\gamma}{P_1 \cdot V_1^\gamma} = \frac{P_2^\gamma \cdot V_2^\gamma}{P_a \cdot V_2^\gamma} \quad \text{ýa-da} \quad \frac{P_1^\gamma}{P_1} = \frac{P_2^\gamma}{P_a}$$

Bu deňligi logarifmläliň :

$$\gamma \lg P_1 - \lg P_1 = \gamma \lg P_2 - \lg P_a \quad \text{ýa-da}$$

$$\gamma (\lg P_1 - \lg P_2) = \lg P_1 - \lg P_a$$

Soňky deňlemeden γ -ny tapalyň.

$$\gamma = \frac{\lg P_1 - \lg P_a}{\lg P_1 - \lg P_2} \quad (4)$$

Belli boluşy ýaly,

$$P_1 = H + h_1; \quad P_a = H; \quad P_2 = H + h_2 \quad (5)$$

Bu ýerde: H - atmosfera basyşyna degişli suwuklyk sütüniň beýikligi;

h_1 - gaba howa berlende manometriň tirseklerindäki suwuklyk sütünleriniň derejeleriniň tapawudy;

h_2 - kran açylyp-ýapylandaky soňky derejeleriň tapawudy.

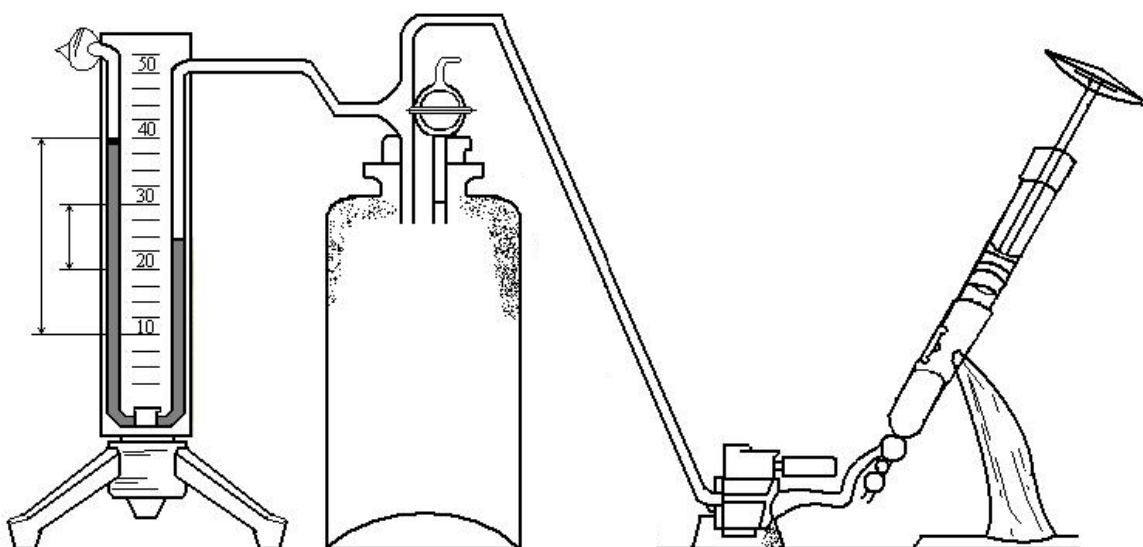
(4) –nji we (5)-nji deňliklerden peýdalanyp we logarifmleri Teýloryň hataryna

dargadyp, ýagny $\lg P_1 = \lg (H + h_1) \equiv \lg H + \frac{h_1}{H} + \dots$

alarys: $\lg P_2 = \lg (H + h_2) \equiv \lg H + \frac{h_2}{H} + \dots$ $\lg P_a \equiv \lg H$

$$\gamma = \frac{\lg H + \frac{h_1}{H} - \lg H}{\lg H + \frac{h_1}{H} - \left(\lg H + \frac{h_2}{H} \right)} \quad \text{ýa-da}$$

$$\gamma \equiv \frac{h_1}{h_1 - h_2} \quad (6)$$



1-nji çyzgy. Klemanyň - Dezormyň usuly bilen howanyň adiabata görkezijisini kesgitlemek üçin ulanylýan abzal.

Işñ ýerine ýetirilişi

1. Gaby atmosfera bilen baglanşdyrýan krany ýapyň (1-nji çyzga seret).
2. Nasosy gap bilen birleşdirýän krany açyň.
3. Gaba nasos bilen howa salyň (ýel beriň). Şonda manometriň tirseklerindäki suwuklyk sütünleriniň derejeleriniň tapawudy 20-25 *sm* töweregi bolsun.
4. Nasosy gap bilen birleşdirýän krany ýapyň.
5. Gapda basyş durnugşandan soň manometrdäki sütünleriň tapawudyny (h_1) belläň.
6. Gaby atmosfera bilen baglanşdyrýan krany çalt açyp, sütünleriň derejeleri deňleşen dessine ony ýapyň.
7. Manometrdäki suwuklyk sütünleriniň hereketi togtanda olaryň tapawudyny (h_2) belläň.
8. Tejribäni baş gezek gaýtalaň.
9. Her bir ölçelen ululygyň (h_1 we h_2) orta bahasyny tapyň.

$$h_{1,or} = \frac{h_{1,1} + h_{1,2} + h_{1,3} + h_{1,4} + h_{1,5}}{5} \quad (7)$$

$$h_{2,or} = \frac{h_{2,1} + h_{2,2} + h_{2,3} + h_{2,4} + h_{2,5}}{5} \quad (8)$$

10. (6) –njy formula boýunça γ_{or} -ny tapyň.

$$\gamma_{or} = \frac{h_{1,or}}{h_{1,or} - h_{2,or}} \quad (9)$$

11. Her bir ölçegiň absolýut ýalňyşlygyny ($\Delta h_{1,i}$) we ($\Delta h_{2,i}$) tapyň.

$$|\Delta h_{1,i}| = (h_{1,or} - h_{1,i}) \quad (10)$$

$$|\Delta h_{r,i}| = (h_{2,or} - h_{r,i}) \quad (11)$$

12. Ähli ölçegiň absolýut ýalňyşlygyny tapyň.

$$|\Delta h_{1,or}| = \frac{\sum_{i=1}^5 |\Delta h_{1,i}|}{5} \quad (12)$$

$$|\Delta h_{2,or}| = \frac{\sum_{i=1}^5 |\Delta h_{2,i}|}{5} \quad (13)$$

13. Otnositel ýalňyşlygy aşakdaky formuladan tapyň.

$$E = \frac{\Delta \gamma_{or}}{\gamma_{or}} = \left(\frac{1}{h_{1,or}} - \frac{1 - h_{2,or}}{h_{1,or} - h_{2,or}} \right) \cdot \Delta h_{1,or} + \left(\frac{h_{1,or} - 1}{h_{1,or} - h_{2,or}} \right) \cdot \Delta h_{2,or} \quad (14)$$

$$14. \text{Netijäni} \quad \Delta \gamma_{or} = \gamma_{or} \cdot E \quad (15)$$

$$\gamma = \gamma_{or} \pm \Delta \gamma_{or} \quad (16)$$

görmüşde ýazyň.

Barlag üçin soraglar

1. Erkinlik derejeleriniň sany näme we onuň himiýada roly nähili? Bir, iki we köp atomly molekulalaryň erkinlik derejesi näçä deň?
2. Ideal gazyň içki energiýasynyň formulasyny getirip çykaryň we düşündiriň.
3. C_p we C_v näme? Olaryň özara tapawudy, formulalaryny ýazyň.
4. Nähili proseslere izotermiki, adiabatiki prosesler diýilýär?
5. γ -ny tapmagyň zerurlygy näme?
6. Işçi formulany getirip çykaryň.
7. Ölçeğleriň ýalňyşlygyny hasaplaýşyňyz barada aýdyň.

15-nji T E J R I B E I Ş I

Puazeýliň usuly bilen suwuklygyň şepbeşiklik koeffisiýentiniň kesgitlenişi

Işiň maksady : suwuklygyň şepbeşiklik koeffisiýentini kesgitlemek

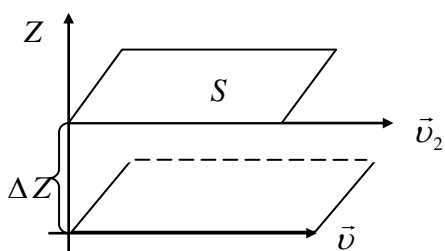
Abzallar: kapillýar turbadan, barlanýan suwuklykly gapdan, menzurkadan, sekunt ölçejiden, masştably çyzgyçdan durýan ýörite guralan desga.

Gysgaça maglumatlar

Suwuklygyň goňşy gatlaklary dürli tizlik bilen hereket etseler, olaryň arasynda sürtülme güýji ýüze çykýar. Şeýle gatlaklardaky molekulalaryň hereket mukdary dürlüdür. Olar özara täsirleşenlerinde hereket çalşygy bolup geçýär. Bölejikleriň inertiligi zerarly olar bu çalşyga (hereket mukdarynyň üýtgemegine) garşylyk görkezýärler. Ana, şol garşylyk güýji-de içki sürtülme güýjüdür.

Nýutonyň tejribede görkezmegine görä, gatlaklaryň arasynda döreýän sürtülme güýji (F), galtaşma üstüniň meýdanyna (S) bu gatlaklara perpendikulýar ugurda tizligiň gradiýentine $\left(\frac{dv}{dz}\right)$ göni proporsional (1-nji çyzgy), ýagny

$$F = \eta \frac{dv}{dz} \cdot S \quad (1)$$



Bu ýerde: η - içki sürtülme
(şepbeşiklik) koeffisiýenti;
 z - gatlaklara perpendikulýar ugur.
(1) –nji formuladan:

$$\eta = \frac{F}{\left(\frac{dv}{dz}\right) \cdot S} \quad (2)$$

1-nji çyzgy. Suwuklyk gatlaklarynyň arasynda şepbeşikligiň döreýşiniň shematik düşündirilişi

Şepbeşiklik koeffisiýenti
gatlaklaryň arasynda tizligiň gradienti

bire $\left(\frac{dv}{dz} = 1 \text{ birlik}\right)$ deň bolanda

olaryň arasynda ýüze çykýan sürtülme güýjüniň (F) meýdan birligine ($S=1$ birlik) düşýän ululygyna san taýdan deňdir.

Kapillýar turba boýunça şepbeşik suwuklyk akanda turbanyň kese kesigi boýunça tizligiň paýlanyş kanuny aşakdaky formula bilen aňladylyar.

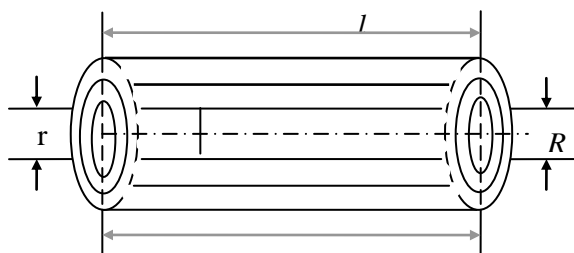
$$v = \frac{\Delta P}{4\eta \cdot l} (R^2 - r^2) \quad (3)$$

Bu ýerde: ΔP - turbanyň uçlaryndaky basyşlaryň tapawudy;

l - kapillýar turbanyň uzynlygy;

R - turbanyň radiusy;

r - kese kesikde islendik nokadyň radiusy.



Akym turbadan r radiusly dr inli silindrik halka alalyň (2-nji çyzgy). Bu halkanyň kese kesiginden t wagtda akyp geçýän suwuklygyň mukdary.

$$dV = v \cdot 2\pi r \cdot dr \cdot t \quad (4)$$

ýa-da (3)-nji formulany göz önünde tutup, (4) –nji formulany şeýle ýazyp bolar:

$$dV = \frac{\Delta P \cdot \pi \cdot t}{2\eta \cdot l} (R^2 - r^2) \cdot r \cdot dr \quad (5)$$

2-nji çyzgy. Şepbeşiklik koeffisiýentiniň kesgitlenişi

(5) –nji deňlemäni integrirläliň, onda

$$V = \frac{\Delta P \cdot \pi \cdot t}{2\eta \cdot l} \left(R^2 \int_0^R r dr - \int_0^R r^3 dr \right) = \frac{\Delta P \cdot \pi \cdot t}{2\eta \cdot l} \left(\frac{R^4}{2} - \frac{R^4}{4} \right) = \frac{\pi \cdot \Delta P \cdot t \cdot R^4}{8\eta \cdot l} \quad (6)$$

Şu işde suwuklyk turbadan öz agramynyň täsirinde akyp çykýar. Şonuň üçin:

$$\Delta P = \rho gh \quad (7)$$

Bu ýerde:

ρ - suwuklygyň dyklygy;

g - agyrlýk güýjüniň tizlenmesi;

h - suwuklygyň sütüniniň beýikligi.

(6) -njy we (7) –nji formulalardan:

$$\eta = \frac{\pi \cdot \rho gh \cdot t \cdot R^4}{8V \cdot l} \quad (8)$$

görnüşli hasaplama formulany alarys.

Işň ýerine ýetirilişi

1. Kapillýar turbanyň R radiusyny anyklaň ($R \approx 0,51mm$).
2. Turbanyň uzynlygyny ölçäň ($l \approx 17,2sm$).
3. Kapillýaryň aşaky ujuny suwa batyrylgy ýagdaýda goýuň, masştably çyzgyçda ondaky suwuklygyň derejesini (h_a) belläň.
4. Suwly gapda suwuň derejesini (h_s) belläň.
5. $h_1 = h_s - h_a$ hasaplaň.
6. Krany açyp belli V göwrümlü suwuň akyp çykýan t wagtyny belläň.
7. Ýene-de menzurkada suwuň derejesi h_s bilen ýokarky gapdaky suwuň derejesiniň tapawudyny $h_2 = h_s - h_a$ tapyň.
8. Soňra $h = \frac{h_1 + h_2}{2}$ formula boýunça h hasaplaň.
9. Tablisadan ρ -ny, g -ni alyň.
10. (8) –nji formula boýunça η -ny hasaplaň.
11. Tejribäni 4-5 gezek gaýtalaň we h_{or} , t_{or} , V_{or} tapyň.

$$h_{or} = \frac{\sum_{i=1}^n h_i}{n}, \quad t_{or} = \frac{\sum_{i=1}^n t_i}{n};$$

$$V_{or} = \frac{\sum_{i=1}^n V_i}{n};$$

Bu ýerde:

i -ölçegleriň nomeri

n -ölçegleriň sany

$$12. \eta_{or} = \frac{\pi_{or} \cdot \rho_{or} \cdot g_{or} \cdot h_{or} \cdot t_{or} \cdot R_{or}^4}{8V_{or} \cdot l_{or}} \text{ formuladan } \eta_{or}\text{-ny tapyň.}$$

$$13. E = \frac{1}{8} \left[\frac{\Delta \pi_{or}}{\pi_{or}} + \frac{\Delta \rho_{or}}{\rho_{or}} + \frac{\Delta g_{or}}{g_{or}} + \frac{\Delta h_{or}}{h_{or}} + \frac{\Delta t_{or}}{t_{or}} + 4 \frac{\Delta R_{or}}{R_{or}} + \frac{\Delta V_{or}}{V_{or}} + \frac{\Delta l_{or}}{l_{or}} \right] \text{ formula boýunça}$$

ölçeğiň otnositel ýalňyşlygyny hasaplaň.

14. $\Delta\eta_{or}$ -ny $\Delta\eta_{or} = \eta_{or} \cdot E$ formula boýunça hasaplaň.

15. Netijäni $\eta = \eta_{or} \pm \Delta\eta_{or}$ görnüşde ýazyň.

Barlag üçin soraglar.

1. Içki sürtülme üçin Nýutonyň kanunyny aýdyp beriň.
2. Içki sürtülme (şepbeşiklik) koeffisiýentiniň fiziki manysyny, ölçeg birligini aýdyň.
3. Laminar we turbulent akymlar näme?
4. Laminar akymda tizligiň paýlanyş kanunyny getirip çykaryň.
5. Puazeýliň formulasyny getirip çykaryň.
6. Işçi formulany getirip çykaryň.
7. Işin ýerine ýetiriliş tertibini düşündiriň.
8. Ölçeğiň ýalňyşlygyny nädip tapdyňyz?

16-njy T E J R I B E I Ş I

Stoksuň usuly bilen gliseriniň içki sürtülme (şepbeşiklik) koeffisiýentiniň kesgitlenişi

Işin maksady : gliseriniň şepbeşiklik koeffisiýentini kesgitlemek.

Abzallar: ştatiwde berkidilen we gliserin bilen doldurylan silindrik gap, sekund ölçeyji, ownuk gurşun şarjagazlary.

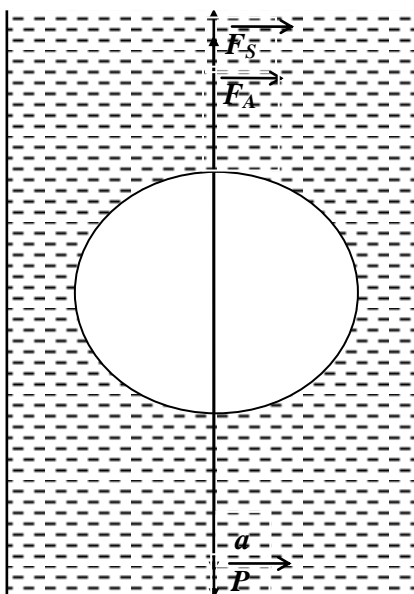
Gysgaça maglumatlar

Owunjak şar görnüşli jisim suwuklykda hereket edende oňa

$$F_s = 6\pi\eta r v \quad (1)$$

formula bilen kesgitlenýän güýç täsir edýär. Bu güýç diňe suwuklygyň şepbeşikligi zerarly döreýär (bu formulanyň getirilip çykarylyşy hödürlenen edebiýatlarda bardyr). Bu ýerde: F_s - Stoksyň güýji, r - şarjagazyň radiusy, η - suwuklygyň şepbeşiklik koeffisiýenti, v - şarjagazyň suwuklykdaky hereket tizligi.

Şarjagazyň gliserinde (islendik şepbeşik suwuklykda) gaçyşyna garalyň. Şarjagaza üç güýç: agyrylyk güýji (P), Arhimediň güýji (F_A), Stoksuň güýji (F_s) täsir eder (1-nji çyzgy).



Nýutonyň ikinji kanuny boýunça şarjagazyň hereket deňlemesi şeýle ýazylar:

$$m \cdot a = P - F_A - F_s \quad (2)$$

Bu ýerde: m - şarjagazyň massasy, a - onuň tizlenmesi. Hereketiň dowamynda P we F_A güýçler üýtgemeyärler. F_s bolsa, tizligiň artmagy zerarly tiz ulalýar. $[P - (F_A + F_s)]$ gitdigiçe kiçeler, tizlenme-de kiçeler we belli bir wagtdan soň ol tizlenme nola deň bolar ($a = 0$), şondan soň hereket deňölçegli göniçyzykly bolar, ýagny

$$P - F_A - F_s = 0 \quad (3)$$

Bu ýerde:

$$P = \frac{4}{3} \pi r^3 \rho_s \cdot g \quad (4)$$

1-nji çyzgy. Şarjagazyň gliserinde hereketiniň şekillendirilişi

P - agyrlyk güýji; r - şaryň radiusy; ρ_s - şaryň maddasynyň dykzlygy; g - agyrlyk güýjüniň tizlenmesi.

$$F_A = \frac{4}{3} \pi r^3 \rho_s \cdot g \quad (5)$$

Bu ýerde : F_A - Arhimiň güýji, ρ_s - suwuklygyň dykzlygy.

(1) –nji , (3) –nji , (4) -nji we (5) -nji aňlatmalardan peýdalanyp,

$$\frac{4}{3} \pi r^3 \rho_s g - \frac{4}{3} \pi r^3 \rho_s g - 6 \pi \eta r v = 0 \quad (6)$$

deňligi ýazyp bileris. (6) –nji deňlikden η tapalyň:

$$\eta = \frac{2 g r^2 (\rho_s - \rho_s)}{9 v} \quad (7)$$

Işin ýerine ýetirilişi

1. Şarjagazlardan baş sanysyny alyň. Olaryň her biriniň radiusyny

(r_i , $i = 1, 2, \dots, 5$) ölçäň we $r_{or} = \frac{\sum_{i=1}^5 r_i}{5}$ formuladan r_{or} -y tapyň. Netijäni

$$r = r_{or} \pm \Delta r \quad (8)$$

görnüşde ýazyň. Bu ýerde $\Delta r = 1\text{ mm}$ (sebäbi ölçeg şkalada aňryçäk ýalňyşlyk 1 mm deň). Ştangensirkul üçin $\Delta r = 0,1\text{ mm}$.

2. Şarjagazy gliserine oklaň. Ol 10-15 sm ýol geçenden soň sekundölçeýjini işlediň. Şarjagaz $h = 30 - 40\text{ sm}$ geçenden soň bolsa, ony duruzyň. Onuň görkezen t wagtyny belläň.

$v_i = \frac{h}{t_i}$ formula boýunça şarjagazyň durnugşan tizligini hasaplaň. Şeýle

hereketi baş sany şarjagazyň her biri bilen gaýtalaň. Netijede $v_{or} = \frac{h}{t_{or}}$ tapyň.

$$t_{or} = \frac{\sum_{i=1}^5 t_i}{5}; \quad t = t_{or} \pm \Delta t \quad (9)$$

Netijäni $v = v_{or} \pm \Delta v$ görnüşde ýazyň.

Bu ýerde:

$$\Delta v = E \cdot v_{or} \quad \text{we} \quad E = \frac{\Delta h}{h_{or}} + \frac{\Delta t}{t_{or}} \quad (10)$$

$\Delta h = 1\text{ mm}, \quad \Delta t = 0,2\text{ s}$

3. Şarjagazyň we suwuklygyň dykzylygyny tablisadan alyň we $\rho = \rho_{or} \pm \Delta \rho$ görnüşde ýazyň.

Bu ýerde ρ_{or} -tablisada görkezilen ululyk, $\Delta \rho - \rho_{or}$ üçin sanyň in kiçi ähmiýetli gymmatynyň ýarysyna deň.

4. Tapyň ululyklaryň ($g_{or}; r_{or}; \rho_{s,or}; v_{or}$) ortaça bahalaryny (7)-nji formula goýup, η_{or} tapyň.

5. Otnositel ýalňyşlygy hasaplaň. Onuň üçin (7) –nji formuladan gelip çykýan aşakdaky aňlatmany ulanyň.

$$\frac{\Delta \eta}{\eta} = E = \frac{2}{9} \left[\frac{\Delta g}{g_{or}} + 2 \frac{\Delta r}{r_{or}} + \frac{1 - \rho_s}{\rho_s - \rho_s} \Delta \rho_s + \frac{\rho_s - 1}{\rho_s - \rho_s} \Delta \rho_s + \frac{\Delta v}{v_{or}} \right] \quad (11)$$

6. Netijäni

$$\eta = \eta_{or} \pm \Delta \eta \quad (12)$$

görnüşde ýazyň. Bu ýerde:

$$\Delta \eta = E \cdot \eta_{or}$$

Barlag üçin soraglar

- Şepbeşiklik zerarly dörän güýç barada aýdyp beriň.
- Stoksuň formulasyny getirip çykaryň.
- Işçi formulany getirip çykaryň.
- Şepbeşiklik koeffisiýentiniň fiziki manysyny düşündiriň.
- Şepbeşiklik koeffisiýenti temperatura baglymy?
- Işin ýerine ýetirilişini aýdyp beriň.
- Ölçegleriň we hasaplamalaryň ýalňyşlyklaryny nähili tapdyňyz?

17-nji T E J R I B E I Ş I

Kalorimetriň kömegi bilen suwuklygyň bug emele gelmesiniň udel ýylylygynyň kesgitlenişi

Işiň maksady : suw üçin bug emele gelmesiniň udel ýylylygyny kesgitlemek.

Abzallar : kalorimetr, gury bug beriji, birikdiriji turbalar, termometr, sekund ölçeýji, suw, elektrik gyzdýryjy, suwly çäýnek, termobarometr, terezi.

Gysgaça maglumatlar

Çäýnekdäki suw gaýnanda emele gelyän bug rezin şlanga (turba) arkaly gury bug berijä barýar. Bu buguň bir bölegi onda kondensirlenip, gury bug beriji gabyň düýbüne çökýär. Ondan çykan gury bug başga bir şlanga bilen kalorimetriň içinde ýerleşen egremçe turba (zmeýewige) girýär. Egremçede kondensirlenen bug

$$Q_1 = \Delta m \cdot r \quad (1)$$

ýylylyk mukdaryny bölüp çykarýar.

Bu formulada Δm - kondensirlenen buguň massasy, ýagny

$$\Delta m = m_1 - m_0 \quad (2)$$

Bu ýerde: m_0 - egremçäniň başdaky massasy,

m_1 - onuň içindäki kondensirlenen bug bilen birlikdäki massasy.

r - suwuň bug emele gelmesiniň udel ýylylygy (gözlenilýän ululyk).

τ - suwuň gaýnama temperaturasy . Onda Δm massaly suw

τ -dan t_1 -e çenli sowanda berýän ýylylyk mukdary:

$$Q = C \cdot \Delta m (\tau - t_1) \quad (3)$$

Bu ýerde: C - suwuň udel ýylylyk sygymy.

t_1 - kalorimetrdäki suwuň ahyrky temperaturasy.

Onda kalorimetrden suwa berlen jemi ýylylyk mukdaryny şu aşakdaky formula arkaly kesgitlemek bolar:

$$Q_{berlen} = Q_1 + Q_2 = \Delta m r + C \cdot \Delta m (\tau - t_1) \quad (4)$$

m_k massaly kalorimetriň, m massaly suwuň, m_o massaly egremçäniň alan ýylylyk mukdarlarynyň jemi şeýle tapylar:

$$Q_{alan} = C_k m_k (t_1 - t_0) + C m (t_1 - t_o) + C_e m_o (t_1 - t_o) \quad (5)$$

ýa-da

$$Q_{alan} = (C_k m_k + C m + C_e m_o) (t_1 - t_o) \quad (6)$$

Bu ýerde: t_0 - kalorimetriň , onuň içindäki suwuň, egremçäniň başky temperaturasy ($t_k = t = t_e = t_0$) . Energiýanyň saklanma kanuny boýunça

$$\Delta m r + C \Delta m (\tau - t_1) = (C_k m_k + C m + C_e m_o) (t_1 - t_o) \quad (7)$$

Bu ýerden:

$$r = \frac{(C_k m_k + C m + C_e m_o)}{m_1 - m_o} (t_1 - t_o) - (\tau - t_1) C \quad (8)$$

Işın ýerine ýetirilişi

1. Kalorimetriň içki gabyny terezide çekiň (m_k)
2. Egremçe turbanyň massasyny (m_o) tapyň.
3. Kalorimetre 1 litre golaý distillirlenen suw guýuň. Onuň massasyny (m) tapyň. Onuň temperaturasy otagyňkydan $2-5^0\text{ S}$ kiçi bolsa gowy bolar.
4. Çäýnege suw guýup gaýnadyň.
5. Gury bug berijiniň dykysyny tä buguň durnugşan akymy alynýança aýryň, soň dykysyny ýerinde goýuň.
6. Suwuň başlangyç temperaturasyny (t_o) belläň.
7. Her 3^0 S -den suwuň temperaturasyny belläň.
8. Suwuň temperaturasy otagyňkydan $2-3^0\text{ S}$ ýokary bolanda tejribäni gutaryň. Termometr boýunça ölçegi tä temperatura mese-mälim peselip başlaýança dowam ediň. Maksimal temperaturany belläň. (t_1)
9. Egremçäni täzeden çekiň we m_1 tapyň.
10. Barometr boýunça atmosfera basyşyny belläň. Tablisadan bu basyşa degişli gaýnama temperaturasyny (τ) tapyň.
11. Tablisadan C_k, C, C_e -iň bahalaryny tapyp alyň.
12. (8)-nji formula boýunça r -i hasaplaň.
13. Ölçegi üç gezek geçiriň we r_{or} -y aşakdaky formula boýunça hasaplaň.

$$r_{or} = \frac{r_1 + r_2 + r_3}{3} \quad (9)$$

14. Ölçegleriň ýalňyşyny kesgitläň.

$$E = \frac{r_{or} - r_i}{r_{or}} \cdot 100\% \quad (10)$$

Barlag üçin soraglar

1. Bugarma bilen kodensirlenmäniň näme tapawudy bar?
2. Gaýnama näme? Gaýnama temperaturasy näme?
3. Gaýnama temperaturasy atmosfera basyşyna baglymy? Jogabyňyzy düşündiriň.
4. Bug emele gelmesiniň udel ýylylygy näme?
5. Işçi formulany getirip çykaryň.
6. Işın ýerine ýetirilişini aýdyp beriň.

18-nji T E J R I B E I Ş I

Howa düwmejiginde maksimal basyş döretme arkaly suwuklygyň üst dartyлма koeffisiýentiniň kesgitlenişi

Işiň maksady : suwuklygyň üst dartyлма koeffisiýentini kesgitlemek.

Abzallar : ýörite gurnalan desga (1-nji çyzgy) , distillirlenen suw, etil spirti.

Gysgaça maglumatlar

1-nji gaba barlanýan suwuklyk guýulýar, onuň içine kapillýar aýna turbajygy 2 salnan. Krany 6 açyp suwy damjalap akdyrsak, 1-nji gapda basyş peseler Atmosfera P_a we gabyň içindäki P basyşlaryň tapawudy zerarly 2-nji kapillýar turbajykdan 2 howa düwmejigi iterilip çykarylýar. Düwmejik gopan pursatynda onuň içinde howanyň basyşy atmosfera basyşyna P_a deň. Düwmejigiň üstüniň egrelmegi zerarly dörän goşmaça basyş ($P_1 = \frac{2\alpha}{R}$; bu ýerde: α - suwuklygyň üst dartyлма koeffisiýenti, R - düwmejigiň üstüniň egrilik radiusy) we gabyň içindäki basyşyň P jemi atmosfera basyşyna deň bolmaly.

$$P_a = P + P_1 \quad \text{ýa-da} \quad P_1 = P_a - P \quad (1)$$

$$P_a - P = \rho g H \quad (2)$$

bu ýerde: - ρ - manometrdäki suwuklygyň dyklyzlygy;

g - erkin gaçma tizlenmesi;

H – manometriň tirseklerinde suwuklygyň derejeleriniň tapawudy.

Onda (1)-nji we (2) –nji deňliklerden:

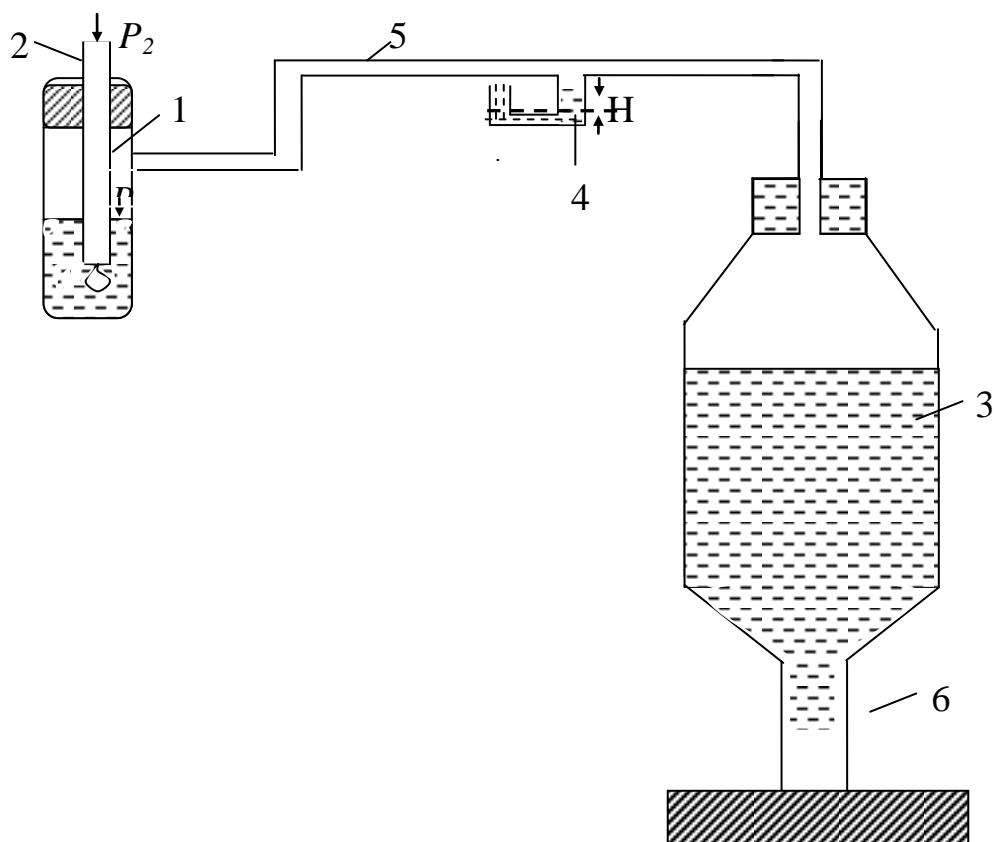
$$\rho g H = \frac{2\alpha}{R} \quad \text{ýa-da} \quad \alpha = \frac{1}{2} \rho g R H \quad (3)$$

(3) –nji deňligi suw üçin we etil spirti üçin ýazalyň;

$$\alpha_s = \frac{1}{2} \rho g R H_s$$

$$\alpha_{sp} = \frac{1}{2} \rho g R H_{sp}$$

$$\text{Bulary özara bölüp şeýle ýazarys: } \alpha_{sp} = \alpha_s \cdot \frac{H_{sp}}{H_s} \quad (4)$$



İşin ýerine ýetirilişi

1. Desganyň her bir bölegini barlaň we olaryň işe taýýarlygyna göz ýetiriň.
 2. Aspiratoryň (3) kranyny (6) açyp, suwy damjalap akdyryň.
 3. Kapillýaryň (2) ujundan düwmejik gopan pursaty manometrde H_s (4) beýikligi belläň.
 4. Suwuň üst dartylma koeffisiýentini α_s tablisadan alyň.
 5. Edil şeýle ýol bilen gaba (1) etil spirtini guýup ölçegleri gaýtalamaly we H_{sp} tapmaly.
 6. Ölçegleri baş gezek gaýtalamaly.
- Netijeleri

$$H_s = H_{s,or} \pm \Delta H_s \quad (5)$$

$$H_{sp} = H_{sp,or} \pm \Delta H_{sp} \quad (6)$$

görnüşde ýazyň. Bu ýerde :

$$H_{s,or} = \frac{\sum_{i=1}^n H_{s,i}}{n} \quad \text{we} \quad H_{sp,or} = \frac{\sum_{i=1}^n H_{sp,i}}{n} \quad (7)$$

7. $\alpha_{sp,or} = \alpha_{s,or} \cdot \frac{H_{sp,or}}{H_{s,or}}$ formula boýunça etil spirti üçin üst dartyлма koeffisiýentiniň ortaça bahasyny hasaplaň.

8. $\Delta H_s = \Delta H_{sp} = 1 \text{ mm}$

9. Otnositel ýalňyşlygy hasaplaň. Onuň üçin aşakdaky formuladan peýdalanyň:

$$E = \frac{\Delta \alpha_{sp,or}}{\alpha_{sp,or}} + \frac{\Delta \alpha_{s,or}}{\alpha_{s,or}} + \frac{\Delta H_{sp,or}}{H_{sp,or}} + \frac{\Delta H_{s,or}}{H_{s,or}} \quad (8)$$

Bu ýerde: $\alpha_{s,or} = 0,0727 \frac{N}{M}; \quad \Delta \alpha_{sp,or} = 0,00005 \frac{N}{M};$

10. Netijäni

$$\alpha_{sp} = \alpha_{sp,or} \pm \Delta \alpha_{sp,or}$$

görnüşinde ýazyň.

$$\Delta \alpha_{sp,or} = \Delta \alpha_{sp,or} \cdot E$$

Barlag üçin soraglar

1. Üst dartyлма güýji, koeffisiýenti näme? Olaryň temperatura we suwuklygyň düzümine baglylygy.
2. $P_1 = \frac{2\alpha}{R}$ formulany getirip çykaryň.
3. Işçi formulany getirip çykaryň.
4. Işin ýerine ýetiriliş tertibini aýdyp beriň.
5. Ölçegleriň we hasaplamalaryň ýalňyşlygyny nähili tapdyňyz?

19 - njy T E J R I B E I Ş I

Howa molekulalarynyň erkin ylgawynyň orta uzynlygynyň we effektiv diametriniň kesgitlenişi

Işiň maksady : howa molekulalarynyň erkin ylgawynyň orta uzynlygyny we effektiv diametrini kesgitlemek.

Abzallar : ýörite gurnalan desga (1-nji çyzgy)

Gysgaça maglumatlar

Gazyň makroparametrleri (basyş, göwrüm, temperatura) onuň mikroparametrleri (molekulanyň ölçegleri we massasy, tizligi, erkin ylgawynyň orta uzynlygy) bilen özara baglansykdadylar. Belli bolşy ýaly,

$$\eta = 0,5 \rho \cdot \lambda \cdot v \quad (1)$$

Bu ýerde: η - içki sürtülme (şepbeşiklik) koeffisiýenti;

ρ - gazyň dykzlygy;

λ - molekulanyň erkin ylgawynyň orta uzynlygy;

v - gaz molekulalarynyň orta arifmetiki tizligi.

Mendeleyewiň – Klapereýronyň deňlemesinden.

$$PV = \frac{M}{\mu} RT; \quad \rho = \frac{P \cdot \mu}{RT} \quad (2)$$

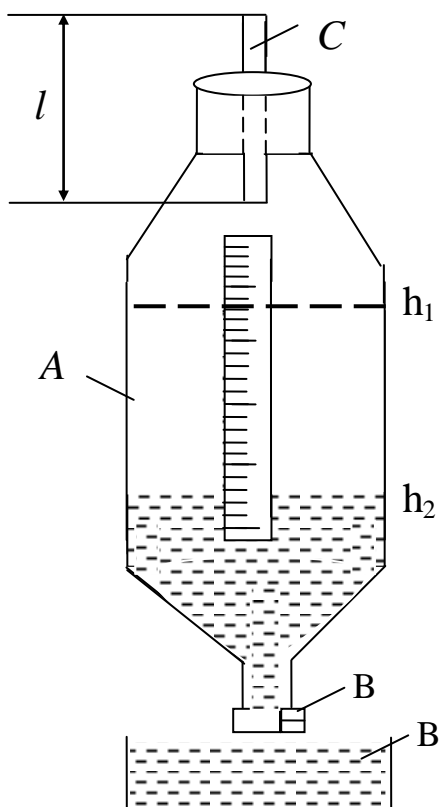
$$\text{we} \quad v = \sqrt{\frac{8RT}{\pi\mu}} \quad (3)$$

aňlatmalary göz önünde tutup, (1) -nji deňlemäni şeýle ýazarys.

$$\eta = 0,5 \frac{P \mu}{RT} \cdot \lambda \cdot \sqrt{\frac{8RT}{\pi\mu}} \quad (4)$$

Şu işde howanyň η şepbeşiklik koeffisiýentiniň C turbajygyň l uzynlygyna r radiusyna we bu turbajygyň uçlaryndaky ΔP basyşlaryň tapawudyna baglylygy ulanylýar (1-nji çyzgy). Puazeýliň formulasy boýunça

$$\eta = \frac{\pi r^4}{8V \cdot l} \cdot \Delta P \cdot \tau \quad (5)$$



1 - nji çyzgy. Tejribe desgasynyň görnüşi

Bu ýerde: $V - \tau$ wagtda r radiusly l

uzynlykly turbajykdan akyp geçýän howanyň göwrümi; ΔP -turbajygyň uçlaryndaky basyşlaryň tapawudy. Soňky (5) –nji formulany (4) –nji formula bilen deňeşdirip

$$\lambda = \frac{\pi r^4 \sqrt{\pi RT} \cdot \Delta P \cdot \tau}{8 l P \sqrt{2 \mu} \cdot V} \quad (6)$$

görnüşli işçi formulany alarys.

Işin ýerine yetirilişi.

1. A balonyň dörtdeň üç bölegine suw guýup, onuň h_1 derejesini belläň.
2. B krany açyp, suwy damjalap akar ýaly etmeli, sekundölçeýjini işletmeli.
3. D menzurkada $50-80 \text{ sm}^3$ suw ýygnananda B krany ýapyp, sekundölçeýjini duruzyň.
4. A gapdaky suwuň täze derejesini belläň.
5. A gapdan akyp çykan suwuň göwrümi C kapilyar turbajykdan A gaba giren howanyň V göwrümüne deňdir.
6. (6) –nji formula boýunça λ -ny hasaplaň. Bu formula girýän basyşlar tapawudyny

$$\Delta P = \rho_o g \frac{h_1 + h_2}{2}$$

formula boýunça hasaplamaly.

Bu ýerde: ρ_o -tejribe geçirilýän wagtda suwuň dyklyzlygy.

(6) –nji formulany:

$$\lambda = \text{const} \cdot \frac{\Delta P \cdot \tau}{V} \quad (7)$$

görnüşde ýazmak amatly. Bu ýerde:

$$\text{const} = \frac{\pi \cdot r^4 \sqrt{\pi RT}}{8 l \cdot P \sqrt{2 \mu}} \quad (8)$$

7. Tejribäni üç gezek gaýtalaň.
8. Howa molekulasyňyň effektiv diametrini aşakdaky formula boýunça tapyň.

$$d = \sqrt{\frac{T \cdot P_o}{\sqrt{2 \pi n_o P T_o} \lambda}} \quad (9)$$

Bu ýerde: n_0 - Loşmitdin sany ($n_0 = 2,687 \cdot 10^{19} \text{ sm}^{-3}$)

$$P_o = 1,0132 \cdot 10^5 \frac{N}{m^2}; \quad T_o = 273,15 \text{ K} - \text{normal şertlerde howanyň}$$

basyşy we temperaturasy;

P, T -tejribe geçýän döwürde basyş we temperatura (barometriň we termometriň görkezmeleri alynýar).

$$9. r = 0,5 \cdot 10^{-3} \text{ m}; \quad l = 0,14 \text{ m}; \quad \mu = 29 \cdot 10^{-3} \frac{\text{kg}}{\text{mol}}; \quad R = 8,31 \frac{\text{J}}{\text{molK}} \quad (10)$$

10. Netijäni:

$$\begin{aligned} \lambda &= \lambda_{or} \pm \Delta\lambda \\ \text{we} \quad d &= d_{or} \pm \Delta d \end{aligned} \quad (11)$$

görnüşde ýazyň. Bu ýerde: λ_{or} we d_{or} (6) –njy we (9) –njy formulalardan tapylýar:

$$E_{\lambda} = \frac{\Delta\lambda}{\lambda_{or}} = \frac{\Delta\pi}{\pi} + 4\frac{\Delta r}{r} + \frac{1}{2}\left(\frac{\Delta\pi}{\pi} + \frac{\Delta R}{R} + \frac{\Delta T}{T}\right) + \frac{\Delta\rho}{\rho} + \frac{\Delta g}{g} + \frac{\Delta h}{h} + \frac{\Delta\tau}{\tau} + \frac{\Delta l}{l} + \frac{\Delta P}{P} + \frac{1}{2} \cdot \frac{\Delta\mu}{\mu} \quad (12)$$

$$E_d = \frac{1}{2} \left(\frac{\Delta T}{T} + \frac{\Delta\rho_0}{\rho_0} + \frac{\Delta\pi}{\pi} + \frac{\Delta n_o}{n_o} + \frac{\Delta T_o}{T_o} + \frac{\Delta\lambda}{\lambda} \right) \quad (13)$$

Barlag üçin soraglar

1. (1) –nji we (2) –nji formulalary getirip çykaryň.
2. Puazeýliň formulasyny getirip çykaryň.
3. Işçi formulalary getirip çykaryň. [(6)-njy we (9)-njy formulalary]
4. Erkin ylgawyň orta uzynlygy näme?
5. Molekulanyň effektiv diametri näme?
6. Işin ýerine ýetirilişini aýdyp beriň.
7. Otnositel ýalňyşlygy nädip tapdyňyz?

20-nji T E J R I B E I Ş I

Maddalaryň ereme ýylylygynyň kesgitlenişi

Işin maksady : himiki reaksiýanyň ýylylyk effektini hasaplamak.

Abzallar : kalorimetr (termos), hromometr, guýguç, garyşdyryjy, misiň duzlary: $CuSO_4$ (suwsuz) we $CuSO_4 \cdot 5H_2O$ (suwly), distillirlenen suw, sekundölçeýji.

Gysgaça maglumatlar

Käbir himiki reaksiýa geçende ýylylyk bölünip çykýar (ekzotermiki reaksiýa); käbirinde bolsa tersine, ýylylyk siňdirilýär (endotermiki reaksiýa). Termodinamikanyň 1-nji kanuny boýunça

$$Q_p = \Delta U + P\Delta V \quad (1)$$

ýa-da

$$\Delta U = U_2 - U_1 \quad \text{we} \quad \Delta V = V_2 - V_1$$

bolany üçin

$$Q_p = (U_2 + PV_2) - (U_1 + PV_1) \quad (2)$$

bu ýerde: Q_p - reaksiýa wagtynda ulgama berilýän ýylylyk mukdary;
 U_2, U_1 - reaksiýa wagtynda ulgamyň soňky we başlangyç içki energiýalary;
 V_2, V_1 - reaksiýa wagtynda ulgamyň soňky we başky tutýan göwrümleri;
 P - basyş, ýagny $P = \text{hemişelik}$
 $U + PV = H$ (3)

bu ýerde: H - ulgamyň entalpiýasy.

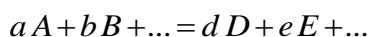
Şeýlelikde, hemişelik basyşda ulgama berlen ýylylyk mukdary onuň entalpiýasynyň üýtgemesine deň bolýar:

$$Q_p = H_2 - H_1 = \Delta H \quad (4)$$

Ekzotermik reaksiýada $\Delta H < 0$, endotermik reaksiýada bolsa $\Delta H > 0$

Gessiň kanuny boýunça reaksiýanyň ýylylyk effekti reaksiýa girýän we alnan önümleriň görnüşine we ýagdaýyna bagly bolup, reaksiýanyň geçiş ýoluna bagly däldir.

Reaksiýanyň ýylylyk effekti, reaksiýa girýän maddalaryň emele gelme ýylylyklaryndan reaksiýanyň önümleriniň emele gelme ýylylyklarynyň aýrylmagyna deňdir. Maddanyň emele gelme ýylylygy - sada maddalardan berlen çylşyrymly maddanyň 1 moluny almak üçin harçlanan ýylylyk mukdaryna deňdir. Goý, aşakdaky ýaly reaksiýa geçipdir diýeliň:



Bu reaksiýanyň ýylylyk effekti şeýle tapylýar:

$$Q_p = -\Delta H = [d\Delta H(D) + e\Delta H(E) + \dots] - [a\Delta H(A) + b\Delta H(B) + \dots]$$

Bu ýerde: a, b, d, e - stehiometriki koeffisiýentler;

$\Delta H(D), \Delta H(E), \Delta H(A), \Delta H(B)$ - degişli maddalaryň emele gelmeginiň entalpiýalary (tablisadan tapylýar).

Işň ýerine ýetirilişi

1. Kalorimetre (termosa) 25 ml distillirlenen suw guýmaly.
2. Termometr boýunça t_b başky temperaturany belläň.
3. 2-5 minutdan soň guýguyň kömegi bilen termosa 1 g $CuSO_4$ suwsuz duzuny dökmeli we sekundölçeýjini işletmeli.
4. Gargyç bilen bulaşdyryp her 30 sekuntan erginiň temperaturasyny bellemeli we aşakdaky tablisany doldurmaly.

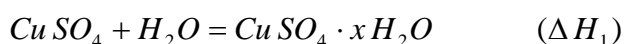
wagt, s	30	60	90	120	150	180	210	240	270	300
temperatura, °S										

5. Tablisadaky temperaturalaryň içinden iň ulusyny alyň (t_s)
6. $\Delta t = t_s - t_o$ hasaplaň.
7. $CuSO_4$ suwsuz duzynyň 1 moly erände entalpiýanyň üýtgemesini hasaplaň.

$$\Delta H_1 = -Q_M = -q \frac{\mu}{m} \quad (5)$$

Bu ýerde: M - ereýän maddanyň $CuSO_4$ molýar massasy
 $\mu = 160 \text{ g/mol}$, $CuSO_4 \cdot 5H_2O$ üçin $\mu = 250 \text{ g/mol}$
 m -maddanyň massasy, $q = m_{p,s}(t_s - t_b)C_p$

8. $CuSO_4 \cdot 5H_2O$ duz bilen hem şeýle tejribäni geçireliň we onuň üçin hem ΔH_2 -ni tapyň.
9. $CuSO_4$ -iň suwsuz duzy $5H_2O$ birleşende entalpiýanyň üýtgemesini tapyň.



Onda: $\Delta H = \Delta H_2 - \Delta H_1$

$$CuSO_4 \cdot 5H_2O: \quad \mu = 249,68; \quad P = 2,28; \quad C_p = 811 \text{ J/mol} \cdot \text{grad}$$

$$\Delta H = -22,79 \text{ kJ/mol}$$

$$CuSO_4: \quad \Delta H = -770,9 \text{ kJ/mol}; \quad C_p = 98,87 \text{ J/mol} \cdot \text{grad}.$$

Barlag üçin soraglar

1. Termodinamikanyň 1-nji kanunynyň mazmunyny aýdyň.
2. Näme üçin ekzotermik reaksiýada $\Delta H < 0$, endotermik reaksiýada bolsa $\Delta H > 0$?
3. Gessiň kanuny näme diýýär?
4. Işin ýerine ýetirilişini aýdyp beriň.

GOŞMAÇALAR

1-nji tablisa

Grek we latyn elipbiýleri

A,α alfa	N,ν nýu	A,a a	N,n en
B,β beta	Ξ,ζ ksi	B,b be	O,o o
Γ,γ gamma	O,o omikron	C,c se	P,p pe
Δ,δ delta	Π,π pi	D,d de	Q,q ku
E,ε epsilon	P,ρ ro	E,e e	R,r er
Z,ξ dzeta	Σ,σ sigma	F,f ef	S,s es
H,η eta	T,τ tau	G,g ge,že	T,t te
Θ,θ teta	Υ,υ ipsilon	H,h aş,ha	U,u u
I,ι ýota	Φ,φ fi	I,i i	V,v we
K,k kappa	X,χ hi	J,j ýot,ži	W,w dubl-we
Λ,λ lambda	Ψ,ψ psi	K,k ka	X,x iks
M,μ mýu	Ω,ω omega	L,l el	Y,y igrek
		M,m em	Z,z zet

2-nji tablisa

Ölçeg birliklere onluk goşulmalar

10^{12}	10^9	10^6	10^3	10^2	10^1	10^{-1}	10^{-2}	10^{-3}	10^{-6}	10^{-9}	10^{-12}
T-tera	G-giga	M-mega	k-kilo	g-gekto	dk-deka	ds-desi	s-santi	m-milli	mk-mikro	n-nano	p-piko

3-nji tablisa

Käbir elementleriň molýar massalary.

Element	Wodorod	Ugler od	Azot	Kislород	Alýu miniý	Argon	Demir	Mis	Simap
Belgile nişi	H	C	N	O	Al	Ar	Fe	Cu	Hg
μ,g/mol	1.01	12.0	14.0	16.0	27.0	40.0	55.8	63.5	201

4-nji tablisa

Gaty jisimler üçin käbir hemişelikler

Gaty jisimler	Dykyz-lyk	Ýunguň moduly	Uzynlyk giňelmesiniň ýylylyk (termiki) koeffisiýenti	Udel ýylylyk sygymy	Ereme-giň udel ýylylygy	Ereme temperaturasy
	$\rho, \frac{kg}{m^3}$	$E, G Pa$	$\alpha, 10^{-6} K^{-1}$	$c, \frac{J}{(kgK)}$	$\lambda, \frac{MJ}{kg}$	T, K
Alýuminiý	2700	70	23	690	0,32	931
Demir	7800	200	11	480	0,27	1803
Suw	916	-	-	2100	0,33	273
Mis	8900	130	17	390	0,18	1356

5-nji tablisa

Suwuklyklar üçin käbir hemişelikler

Suwuklyklar	Dykyz-lyk	Gysylmak koeffisiýenti	Göwrümleýin giňelmesiniň ýylylyk (termiki) koeffisiýenti	Udel ýylylyk sygymy	Bug emele gelmegiň udel ýylylygy	Üst dartys koeffisiýenti
	$\rho, \frac{kg}{m^3}$	γ	$\beta, 10^{-4} K^{-1}$	$c, \frac{J}{(kgK)}$	$\lambda, \frac{MJ}{kg}$	$\sigma, \frac{mN}{m}$
Suw	1000	0,45	1,5 (288K)	4180	2,25	73 (293K)
Nebit	800	-	10	-	-	-
Simap	13600	-	1,8	140	0,28	490

6-njy tablisa

Deňiz derejesinde dürli giňlikler üçin erkin gaçmanyň tizlenmesi

Giňlik, graduslar	$g, \text{m/s}^2$	Giňlik, graduslar	$g, \text{m/s}^2$	Giňlik, graduslar	$g, \text{m/s}^2$
0	9,7803	35	9,7973	70	9,8261
5	9,7807	40	9,8017	75	9,8287
10	9,7819	45	9,8062	80	9,8306
15	9,7838	50	9,8107	85	9,8318
20	9,7863	55	9,8150	90	9,8322
25	9,7895	60	9,8191	Aşgabat	9,8018
30	9,7932	65	9,8228	Moskwa	9,8152

7-nji tablisa

Dürli temperaturalarda suwuň üst dartyлма koeffisiýenti

Temperatura, $^{\circ}\text{S}$	Üst dartyлма, mN/m	Temperatura, $^{\circ}\text{S}$	Üst dartyлма, mN/m
0	75,5	45	68,6
5	74,8	50	67,8
10	74,0	55	66,9
15	73,3	60	66,0
20	72,5	65	65,1
25	71,8	70	64,2
30	71,0	75	63,3
35	70,3	80	62,3
40	69,5	90	60,7

8-nji tablisa

Dürli temperaturalarda suwuň içki sürtülme koeffisiýenti

$t, ^\circ S$	$\eta \cdot 10^5$ [Pa·s]	$t, ^\circ S$	$\eta \cdot 10^5$ [Pa·s]	$t, ^\circ S$	$\eta \cdot 10^5$ [Pa·s]	$t, ^\circ S$	$\eta \cdot 10^5$ [Pa·s]
0	179,7	19	102,9	30	80,3	100	28,4
5	151,8	20	100,4	40	65,5	110	25,6
10	130,7	21	98,0	50	55,1	120	23,2
15	114,0	22	95,7	60	47,0	130	21,2
16	111,0	23	93,6	70	40,7	140	19,6
17	108,2	24	91,5	80	35,7	150	18,4
18	105,5	25	89,5	90	31,7	160	17,4
19	102,9	30	80,3	100	28,4		

9-njy tablisa

Howanyň otnositel çyglygynyň psihrometrik tablisasy

Gury termometriniň görkezmesi	Gury we öl termometrleriň görkezmeleriniň tapawudy, $^\circ S$										
	0	1	2	3	4	5	6	7	8	9	10
0	100	81	63	45	28	11					
2	100	84	68	51	35	20					
4	100	85	70	56	42	28	14				
6	100	86	73	60	47	35	23	10			
8	100	87	75	63	51	40	28	18	7		
10	100	88	76	65	54	44	34	24	14	4	
12	100	89	78	68	57	48	38	29	20	11	
14	100	90	79	70	60	51	42	33	25	17	9
16	100	90	81	71	62	54	45	37	30	22	15
18	100	91	82	73	64	56	48	41	34	26	20
20	100	91	83	74	66	59	51	44	37	30	24
22	100	92	83	76	68	61	54	47	40	34	28
24	100	92	84	77	69	62	56	49	43	37	31
26	100	92	85	78	71	64	58	50	45	40	34
28	100	93	85	78	72	65	59	53	48	42	37
30	100	93	86	79	73	67	61	55	50	44	39

10-njy tablisa

Doýgun syw bugunyň dürli temperaturalardaky basyşy we dykyzlygy

$t, ^\circ S$	$P_{d.b.},$ <i>mm.sim.süt.</i>	m^*, g	$t, ^\circ S$	$P_{d.b.},$ <i>mm.sim.süt.</i>	m^*, g	$t, ^\circ S$	$P_{d.b.},$ <i>mm.sim.süt.</i>	m^*, g
-30	0,28	0,33	0	4,58	4,84	27	26,74	25,8
-29	0,31	0,37	1	4,93	5,22	28	28,35	27,2
-28	0,35	0,41	2	5,29	5,60	29	30,04	28,7
-27	0,38	0,46	3	5,60	5,98	30	31,82	30,3
-26	0,43	0,51	4	6,10	6,40	31	33,70	32,1
-25	0,47	0,55	5	6,54	6,84	32	35,66	33,9
-24	0,52	0,60	6	7,01	7,3	33	37,73	35,7
-23	0,58	0,66	7	7,51	7,8	34	39,90	37,6
-22	0,64	0,73	8	8,05	8,3	35	42,18	39,6
-21	0,70	0,80	9	8,61	8,8	36	44,56	42,8
-20	0,77	0,88	10	9,21	9,4	37	47,07	44,0
-19	0,85	0,96	11	9,84	10,0	38	49,69	46,3
-18	0,94	1,05	12	10,52	10,7	39	52,44	48,7
-17	1,03	1,15	13	11,23	11,4	40	55,32	51,2
-16	1,13	1,27	14	11,99	12,1	45	71,88	65,4
-15	1,24	1,38	15	12,79	12,8	50	92,5	83,0
-14	1,36	1,51	16	13,63	13,6	55	118,0	104,3
-13	1,49	1,65	17	14,53	14,5	60	149,4	130
-12	1,63	1,80	18	15,48	15,4	65	187,5	161
-11	1,78	1,96	19	16,48	16,3	70	233,7	198
-10	1,95	2,14	20	17,54	17,3	75	289,1	242
-9	2,13	2,33	21	18,65	18,3	80	355,1	293
-8	2,32	2,54	22	19,83	19,4	85	433,6	354
-7	2,53	2,76	23	21,07	20,6	90	525,8	424
-6	2,76	2,99	24	22,38	21,8	95	633,9	505
-5	3,01	3,24	25	23,76	23,0	100	760,0	598
-4	3,28	3,51	26	25,21	24,4			
-3	3,57	3,81						
-2	3,88	4,13						
-1	4,22	4,47						

* $m - 1\text{ m}^3$ buguň gramlarda aňladylan massasy

EDEBIÝATLAR

1. FPM-02, FPM-03, FPM-04, FPM-05, FPM-06, FPM-07, FPM-08, FPM-09, FPM-013 belgili abzallaryň ýazgylary.
2. Allakow Ö., Gurbangeldiýew Ç. Mehanika, Aşgabat, 2006.
3. Глинка Н.Л. Общая химия, Москва, 1988.
4. Гурбанов А., Акмырадов Б. Молекуляр физика ве йылылык, Ашгабат, 1986 .
5. Гурт Тойлы Физикадан лаборатория ишлери, Ашгабат, 1993.
6. Майсова Н.Н. Практикум по курсу общей физики, Москва, 1970.
7. А.Н. Матвеев Механика и теория относительности, Москва, 1986.
8. Nurgeldiýew A., Bekmyradow Ö., Akmyradow B. Molekulýar fizika we termodinamika, Aşgabat, 2006 .
9. Рабинович В.А., Хавин З.Я. Краткий химический справочник, Москва, 1991.
10. Стрючков И.А., Краев П.И. Руководство к лабораторным работам по механике, Часть I, Ашхабад ,1977.
11. Краев П.И., Стрючков И.А. Руководство к лабораторным работам по молекулярной физике, Часть II, Ашхабад, 1979.
12. Тойлыев Г. Механикадан лекцияларың конспекти, Ашгабат, 1971.
13. Тойлыев Г. Механикадан лекцияларың конспекти, (ыргылдылар ве толкунлар, акустика), Ашгабат, 1972.
14. Яковлев К.П. Физический практикум, часть II, Москва , 1977 .
15. Физический практикум. Механика и молекулярная физика, под ред. В.И. Ивероновой, Москва,1967.

M A Z M U N Y

1. Dogry geometrik formaly gaty jisimleriň dykyzlygyny kesgitlemek	4
2. Atwudyň abzalynda erkin gaçmanyň tizlenmesini kesgitlemek	7
3. Ýapgyt maýatnigiň kömegi bilen togarlanma sürtülme koeffisiýentini kesgitlemek	9
4. Hereket mukdarynyň saklanma kanunyny barlamak	13
5. Matematiki we öwrülme maýatnikleriň kömegi bilen agyrlyk güýjüniň tizlenmesini kesgitlemek	16
6. Erkin däl ulagamlaryň yrgyldylaryny öwrenmek	21
7. Makswelliň maýatniginde metal halkalaryň inersiýa momentlerini kesgitlemek	25
8. Gaty jisimiň aýlanma hereketiniň dinamiki kanunyny barlamak (Oberbekiň maýatnigi)	28
9. Ballistiki tovlanma maýatniginde okuň tizligini kesgitlemek	31
10. Impulsyň momentiniň saklanma kanuny we giroskopiki effekti barlamak	35
11. Yrgyldylar usuly bilen tigriň inersiýa momentiniň kesgitlenişi	37
12. Howanyň çyglylygyny kesgitlemek	40
13. Damjalar usuly bilen suwuklygyň üst dartyлма koeffisiýentiniň kesgitlenişi	44
14. Klemanyň - Dezormyň usuly bilen howanyň adiabata görkezijisiniň kesgitlenişi	47
15. Puazeýliň usuly bilen suwuklygyň şepbeşiklik koeffisiýentiniň kesgitlenişi	50
16. Stoksuň usuly bilen gliseriniň içki sürtülme (şepbeşiklik) koeffisiýentiniň kesgitlenişi	53
17. Kalorimetriň kömegi bilen suwuklygyň bug emele gelmesiniň udel ýylylygynyň kesgitlenişi	56
18. Howa düwmejiginde maksimal basyş döretme arkaly suwuklygyň üst dartyлма koeffisiýentiniň kesgitlenişi	58
19. Howa molekularalarynyň erkin ylgawynyň orta uzynlygynyň we effektiv diametriniň kesgitlenişi	61
20. Maddalaryň ereme ýylylygynyň kesgitlenişi	63
21. Goşmaçalar	66
22. Edebiýatlar	71